

20 Mayıs 2017 Ehliyet soruları

**Soru 1.** Olay ya da kaza, mümkün olduğu kadar hızlı bir şekilde telefon veya diğer kişiler aracılığıyla gerekli yardım kuruluşlarına haber verilmelidir. Türkiye’de ilk yardım gerektiren her durumda, telefon iletilimleri 112 acil telefon numarası üzerinden gerçekleştirilir.  
**Verilen bilgi, ilk yardımın temel uygulamalarından hangisiyle ilgilidir?**

- ✓A) Bildirme  
B) Koruma  
C) Kurtarma  
D) Tedavi etme

<p>Question 1. The accident or accident must be reported to the necessary charities through the phone or other persons as quickly as possible. In any case where first aid is required in Turkey, telephone communications are carried out via 112 emergency telephone numbers.</p> <p>Which information relates to the basic practices of first aid?</p> <p><b>A) Reporting</b></p> <p>B) Protection</p> <p>C) Rescue</p> <p>D) Treatment</p>	<p>السؤال الأول:</p> <p>يجب أن يتم الإعلام على الحادث إلى الجهات المسؤولة عبر الهاتف بسرعة قدر الإمكان. في أية حالة يتطلب الإسعاف الأولي فإن الاتصالات الهاتفية في تركيا تتم عبر رقم الطوارئ 112</p> <p>أي من ما يلي يتبع للإسعاف الأولي</p> <p><b>(أ) الإعلام</b></p> <p>(ب) الحماية</p> <p>(ج) الإنقاذ</p> <p>(د) المعالجة</p>
--	--

**Soru 2.** Sağlıklı yetişkin bir kişinin dakikadaki solunum sayısı kaçtır?

- A) 10 - 18  
✓B) 12 - 20  
C) 14 - 22  
D) 16 - 24

<p>Question 2. What is the number of respirations per minute for a healthy adult?</p>	<p>السؤال الثاني</p> <p>ما هو عدد مرات التنفس للإنسان الصحيح البالغ في الدقيقة</p>
---	--

**Soru 3.** Trafik kazası sonrası olay yerinin değerlendirmesini yapan bir ilk yardımcı;  
I. Olay yerini yeterince görünebilir biçimde işaretliyor,  
II. Kivılcım oluşturabilecek ışıklandırma veya çağrı araçlarının kullanılmasına izin vermiyor,  
III. Birinci değerlendirme sonucu tüm uyarılara karşı tepkisiz olduğu belirlenen kazazedeye şekerli içecekler veriyor.

**Bu ilk yardımcı, yukarıdaki uygulamaların hangilerinde hatalı davranmıştır?**

- A) Yalnız I
- B) Yalnız II
- C) Yalnız III
- D) I, II ve III.

<p>Question 3. A first assistant in assessing the scene after a traffic accident;</p> <p>I. The event marks the place sufficiently visible,</p> <p>II. It does not allow the use of lighting or paging tools that may create sparks,</p> <p>III. The first assessment is that all stimuli which is determined to be unresponsive to alcoholic beverages.</p> <p>Has this first helper acted erroneously in the above applications?</p>	<p>السؤال الثالث</p> <p>في الإسعاف الأولي عند تقييم موقع الحادث بعد وقوع الحادث المروري</p> <p>(أ) يجب أن تكون العلامات التي توضع كافية وواضحة</p> <p>(ب) إنها لا تسمح باستخدام الضوء أو أي أدوات يمكن أن تسبب شرارة</p> <p>(ت) في جميع المراجعات الأولية فإنه تقرر إعطاء شراب محلي بالسكر للمصاب الذي لا يستجيب</p> <p>أي من التصرفات أعلاه قد تم بشكل غير صحيح</p>
--	--

**Soru 4.** Bilincin kapalı olması durumunda dilin geriye kayması ya da solunum yoluna yabancı cisim kaçması gibi nedenlere bağlı olarak solunum yolu tıkanabilir. Bu durumda kazazedenin boyun travması yoksa hava yolunu açmak için - - - - pozisyonu verilir.

**Yukarıdaki açıklamada boş bırakılan yere hangisi yazılmalıdır?**

- A) şok
- B) oturuş
- C) yarı yüzükoyun-yan
- D) baş geri-çene yukarı

<p>Question 4: If the subject is closed, the respiratory tract may become clogged due to reasons such as the backward slippage of the tongue or the escape of foreign bodies through the respiratory tract. In this case, if there is no trauma to the spine, the position of - - - - is given to open the airway.</p> <p>Which is left blank in the above explanation?</p> <p>A) shock</p> <p>B) sitting</p> <p>C) half-prone-side</p> <p><input checked="" type="checkbox"/> D) head back-chin up</p>	<p>السؤال الرابع: إذا كان المصاب فاقدًا للوعي فيمكن أن يصبح مجرى التنفس مغلقًا نتيجة انقلاب اللسان للداخل أو ابتلاعه أو نتيجة لدخول جسم غريب في مجرى التنفس</p> <p>في هذه الحالة إذا لم يكن هناك صدمة فإن المصاب يعطى وضعية.....لفتح مجرى الهواء</p> <p>أي كلمة يجب أن تكتب في الفراغ أعلاه لتناسب المعنى</p> <p>(1) الصدمة</p> <p>(2) الجلوس</p> <p>(3) نصف دائري الجانب</p> <p><input checked="" type="checkbox"/> (4) إرجاع الرأس للخلف مع الفك</p>
---	--

**Soru 5. Yetişkinlerde uygulanan temel yaşam desteğiyle ilgili olarak verilenlerden hangisi doğrudur?**

- A) Her 2 kurtarıcı nefesten sonra, havanın geriye çıkmasına izin vermeden tekrar suni solunum yapılması  
✓B) Suni solunum yapmak için ilk yardımcının, kazazedenin ağzını kendi ağzının içine alacak şekilde yerleştirmesi  
C) Kazazedeye 20 kalp masajı yaptıktan sonra suni solunuma geçilmesi  
D) Göğüs kemiği 4 cm aşağı inecek şekilde kalp basısı uygulanması

<p>Which is true about the basic life support that is applied to adults?</p> <p>A) After each rescuer's breathing, artificial respiration again without allowing the air to return</p> <p>B) Place the first assistant for artificial respiration so that the mouth of the victim is covered by his own mouth</p> <p>C) Artificial respiration after 20 heart massage in Kazazedeye</p> <p>D) The pressure of the heart to be lowered 4 cm down the chest</p>	<p>السؤال الخامس أي مما يلي صحيح حول يطبق للأشخاص البالغين</p> <p>(أ) بعد كل تنفس للمسعف فإن التنفس الاصطناعي يكرر مرة أخرى بدون السماح للهواء بالعودة</p> <p>(ب) يضع المسعف الذي يقوم بالتنفس الاصطناعي فمه على فم المصاب</p> <p>(ج) التنفس الصمغاعي يجرى بعد 20 مرة لمساج القلب</p> <p>(د) ضغط القلب يكون أقل ب 4 سم أخفض من الصدر</p>
---	--

**Soru 6. Aşağıdakilerden hangisi, solunum yolu tıkanıklığı olan bir kazazedenin tam tıkanma yaşadığını gösteren belirtilerden biri değildir?**

- ✓A) Konuşabilmesi  
B) Rengin morarması  
C) Nefes almasının durması  
D) Acı çekip ellerini boynuna götürmesi

<p>Question 6. Which of the following is not one of the indications that a victim with respiratory obstruction is experiencing complete blockage?</p> <p>A) Speaking</p> <p>B) Rich mourning</p> <p>C) Stop breathing</p> <p>D) Pulling his hand to his neck</p>	<p>السؤال السادس</p> <p>أي مما يلي ليس واحداً من المؤشرات أن المصاب بانسداد في مجرى التنفس يعاني من انسداد كامل</p> <p>(1) الكلام</p> <p>(2) اللون الأرجواني</p> <p>(3) توقف التنفس</p> <p>(4) يضع يديه على رقبته</p>
--	---

**Soru 7. Vücutta kanın aktığı bölgeye göre sınıflandırılan kanamalarla ilgili verilenlerden hangisi doğrudur?**

- A) Dış kanamalarda, kanama gözle görülemez.  
 B) Yaradan vücut dışına doğru olan kanamalar iç kanamalardır.  
 C) Kanın vücut boşluklarına aktığı kanamalar, dış kanamalar olarak sınıflandırılır.  
 ✓D) Doğal deliklerden olan kanamalar; kulak, burun, ağız, anüs ve üreme organları kanamalarıdır.

<p>Question 7. Which of the following is true about the bleedings that are classified according to the region of act of blood in the body?</p> <p>A) Outside bleeding, bleeding is not visible.</p> <p>B) The bleeds from the wound to the outside of the body are the internal bleeds.</p> <p>C) Actual hemorrhages into the body cavities of the blood are classified as external hemorrhages.</p> <p>D) Hemorrhages from natural orifices; ear, nose, mouth, anus and reproductive organs.</p>	<p>السؤال السابع: أي مما يلي هو صحيح حول الجروح التي تصنف حسب منطقتها ومنطقة الدم في الجسم</p> <p>(1) الجروح السطحية، النزف غير واضح  (2) الجروح التي تنزف إلى خارج الجسم هي من النزف الداخلي  (3) النزف الداخلي الذي يجري داخل الجسم يصنف بالنزف الخارجي  (4) النزف من الفتحات الطبيعية هي من الأنف والأذن والفم والشرج والأعضاء التناسلية</p>
---	---

**Soru 8. Kırığı olan ya da kırık şüphesi bulunan kazazedeye, aşağıdakilerden hangisinin yapılması doğru bir ilk yardım uygulamasıdır?**

- ✓A) Sorunlu bölgenin hareketsizleştirilmesinin sağlanması  
 B) Kol ya da bacadaki bozulmuş şeklin düzeltilmeye çalışılması  
 C) Kırık kuşuklu bölge hareketsizleştirilmeden taşıma yapılması  
 D) Kazazedenin oturmasına ya da sağa sola kıvılcasına izin verilmesi

<p>Question 8. Which one of the following is the correct first-aid practice in the case of accidental or broken accident?</p> <p>A) Ensuring that the troubled zone is immobilized</p> <p>B) Trying to correct the deformed shape in the arm or the bend</p> <p>C) Transport without suspending the suspected area of fracture</p> <p>D) Allowing the resident to sit or move to the left or right</p>	<p>السؤال الثامن    أي مما يلي هو الإجراء الصحيح للإسعاف الأولي في حال وجود حادث أو وقوع حادث</p> <p>(1) التأكد من أن المنطقة التي وقع بها الحادث لا يتم تحريكها  (2) محاولة تصحيح الكسر أو شكل العضلة المشوهة  (3) النقل دون تثبيت المنطقة المشتبه بها أنها مكسورة  (4) السماح للناجين من الحادث بالجلوس والانتقال من اليمين لليساار</p>
--	---

**Soru 9. Dokular üzerinde çekme etkisi ile meydana gelen yaralara ne ad verilir?**

- A) Ezikli yaralar  
 B) Delici yaralar

- ✓C) Parçalı yaralar  
D) Kesik yaralar

Question 9. What is the name of the injury that is caused by the pull effect on the localities?  A) Foul wound B) Drilling injuries C) Scarred wound D) Cut wounds	السؤال 9: ما اسم الإصابة الناجمة عن سحب شيء على مكان معين  1) الجرح المسحوق 2) الجروح الناتجة عن الثقوب والخرق 3) الجروح السطحية أو الندبات 4) الجروح الناجمة عن القطع
---	---

**Soru 10.** Resimde görülen pozisyon, aşağıdaki durumların hangisinde uygulanır?



- A) Şok  
✓B) Koma  
C) Tam tıkanma  
D) Omurga yaralanması

Question 10. Where does the position shown in the picture apply in the following situations?  A) Shock B) Coma C) Complete blockage D) Spinal injury	على أي مما يلي ينطبق الشكل الموضح بالشكل  1) الصدمة 2) الكوما 3) الانسداد الكامل 4) إصابة العمود الفقري
---	--

**Soru 11.** Aşağıdakilerden hangisi, yüksek ateş nedeniyle oluşan havalede yapılacak ilk yardım uygulamalarındandır?

- A) Karna baskı uygulanması  
B) Sıcak uygulama yapılması  
C) Şekerli içecekler verilmesi  
✓D) Oda sıcaklığında bir küvete sokulması

<p>Question 11. Which of the following is a first aid application to be made due to high fever?</p> <p>A) Carnival pressure application</p> <p>B) Hot application</p> <p>C) Giving sugary drinks</p> <p>D) <b>Sitting a couch at room temperature</b></p>	<p>السؤال 11 أي من تطبيقات الأسعاف الأولي التي تعطى لمصاب يعاني من ارتفاع درجة حرارة عالية</p> <p>(1) تطبيق ضغط كارنا</p> <p>(2) تطبيق التسخين أو التدفئة</p> <p>(3) إعطاء مشروبات سكرية</p> <p>(4) <b>وضع المريض ضمن حوض استحمام بنفس درجة حرارة الغرفة</b></p>
---	--

**Soru 12.** Rentek manevrası;

I. Solunum durması, yangın tehlikesi ve patlama gibi tehlikeli durumlarda,  
 II. Kazazedenin omuriliğine zarar vermeden araçtan çıkarılmasında kullanılır.

**Verilenler için aşağıdakilerden hangisi söylenebilir?**

- A) I. doğru, II. yanlış  
 B) I. yanlış, II. doğru  
 ✓ C) Her ikisi de doğru  
 D) Her ikisi de yanlış

<p>Question 12. Rentek maneuver;</p> <p>I. In hazardous situations such as respiratory arrest, fire hazard and explosion,</p> <p>II. It is used to remove Kazazeden from the car without damaging the spinal cord.</p> <p>Which of the following can be said for given?</p> <p>A) I. right, II. false</p> <p>B) I. wrong, II. right</p> <p><b>C) Both are right</b></p> <p>D) Both are wrong</p>	<p>السؤال 12: مناورة رينتك</p> <p>(1) في الحالات مثل حالات انسداد التنفس خطر النار والانفجار</p> <p>(2) تستخدم لإزالة الضحية من السيارة دون إتلاف الحبل الشوكي</p> <p>أي مما يلي يمكن أن يكون صحيحاً</p> <p>(1) 1 صح ، 2 خطأ</p> <p>(2) 1 خطأ، 2 صح</p> <p><b>(3) الجوابين صحيحان</b></p> <p>(4) الجوابين خاطئان</p>
--	--

**Soru 13.** Aşağıdakilerden hangisi sürücülerden beklenen olumlu davranış özelliklerindedir?

- A) Kızgın biçimde kornaya basmak  
 B) Sürüş sırasında aceleci davranmak  
 ✓ C) Başkalarının hakkına saygılı olmak  
 D) Dar yolda, gelen araçlarla inatlaşmak

<p>Question 13. Which of the following is positive behavioral characteristics expected from drivers?</p> <p>A) Horny horn</p> <p>B) rushing while driving</p> <p><b>C) Respect others' rights</b></p> <p>D) On the narrow road, getting stuck with incoming vehicles</p>	<p>السؤال 13: أي مما يلي هو سلوك إيجابي متوقع من السائقين</p> <p>(1) التزمير بشكل غاضب</p> <p>(2) التصرف المتسرع أثناء القيادة</p> <p>(3) احترام حقوق الآخرين</p> <p>(4) في الطرق المتضيقة، يضايق السيارات القادمة</p>
--	--

**Soru 14. Yerleşim yerleri içinde trafiği düzenleme amacı ile**

- Yer işaretlemelerini
- Trafik işaret levhalarını
- Işıklı ve sesli trafik işaretlerini

**temin ve tesis etmek, bunların devamlılığını ve işlerliğini sağlamak, aşağıdaki kuruluşlardan hangisinin görevidir?**

- ✓ A) Belediyelerin
- B) Emniyet Genel Müdürlüğünün
- C) Kara Yolları Genel Müdürlüğünün
- D) Ulaştırma, Denizcilik ve Haberleşme Bakanlığının

<p>Question 14. With the aim of organizing traffic within the settlement areas</p> <ul style="list-style-type: none"> <li>• Place markings</li> <li>• Traffic signs</li> <li>• Signs of light and voice traffic</li> </ul> <p>to provide and maintain them, to ensure their continuity and operation, which of the following organizations is the task?</p> <p>A) <b>The municipalities</b></p> <p>B) General Directorate of Security</p> <p>C) General Directorate of Highways</p> <p>D) Ministry of Transport, Maritime Affairs and Communications</p>	<p>السؤال 14 ضمن أهداف تنظيم السير في المناطق السكنية</p> <ul style="list-style-type: none"> <li>- وضع الاشارات والخطوط</li> <li>- شاخصات المرور</li> <li>- الاشارات الضوئية والصوتية</li> </ul> <p>من أجل تقديم هذه الاشياء وصيانتها وللتأكد على استمرارية تشغيلها أي من الجهات التالية تكون مسؤولة عن ذلك</p> <p>(1) <b>البلديات</b></p> <p>(2) المديرية العامة للأمنيات</p> <p>(3) المديرية العامة للطرق</p> <p>(4) وزارة النقل والملاحة البحرية والاتصالات</p>
--	--

**Soru 15. Yayaların ve araç kullananların diğer yaya ve araç kullananlara göre yolu kullanmak sırasındaki önceliğine ne ad verilir?**

- A) Okul geçidi
- ✓ B) Geçiş hakkı
- C) Yaya geçidi
- D) Geçiş üstünlüğü

Question 15. What is the name of the priority for the use of roads and road users compared to other pedestrians and drivers? A) School gate B) Right of way C) Pedestrian crossing D) Transit superiority	السؤال 15: ماسم الأولوية في استخدام الطريق ومستخدمي الطريق من قبل المشاة والسائقين (1) باب المدرسة (2) حق الطريق (3) ممر المشاة (4) التفوق الانتقالي
---	--

**Soru 16.** Şekildeki trafik işaretini gören sürücünün aşağıdakilerden hangisini yapması yanlıştır?



- A) Yolu kontrol etmesi
- B) Aracını yavaşlatması
- ✓ C) Takip mesafesini azaltması
- D) Bu bölgeden dikkatli geçmesi

Question 16. Which of the following is wrong with the driver who sees the top traffic sign? A) Road control B) Slow down the car C) Reduce follow-up distance D) Careful passage through this area	السؤال 16: أي مما يلي هو خاطئ بالنسبة للسائق الذي يشاهد الشاحصة المرورية التي في الشكل (1) مراقبة الطريق (2) إبطاء السيارة (3) تقليل مسافة التعقب (4) المرور بحذر في هذه المنطقة
--	--

**Soru 17.** Şekildeki trafik işareti aşağıdakilerden hangisini bildirir?







- A) Dönel kavşağa yaklaşıldığını
- B) Kontrolsüz kavşağa yaklaşıldığını
- C) Demir yolu geçidine yaklaşıldığını
- ✓ D) Ana yol - tali yol kavşağına yaklaşıldığını



<p>Question 17. Which traffic sign at the top reports below?</p> <p>A) Approaching the roundabout</p> <p>B) Approaching the uncontrolled junction</p> <p>C) The iron pathway is approached</p> <p>D) Main road - approaching to the parallel road</p>	<p>السؤال 17 إلى ماذا تشير شاخصة المرور في الشكل</p> <p>(1) الاقتراب من الدوار</p> <p>(2) الاقتراب من تقاطع غير متحكم به</p> <p>(3) تم الوصول إلى تقاطع مع سكة حديدية</p> <p>(4) طريق رئيسي اقتراب مفارق طرق فرعية</p>
---	--




**Soru 18.** Aşağıdaki trafik işaretlerinden hangisi uzunluk anlamında gabari sınırlamasının olduğunu bildirir?

- A) 
- B) 
- ✓ C) 
- D) 

<p>Question 18. Which of the following traffic signs indicates length limitation gauges?</p>	<p>السؤال 18 أي من شاخصات المرور تشير إلى حدود تحديد الطول</p>
--	--

**Soru 19.** Aşağıdaki trafik işaretlerinden hangisi, kavşaklarda üzerinde bulunulan yolun tali yol olduğunu ve ana yoldaki araçlara yol verilmesi gerektiğini belirtir?



- ✓ A) 

- B) 
- C) 
- D) 

Which of the following traffic signs indicate that the road on intersections is a legitimate route and that vehicles on the main road must be driven?

أي من إشارات المرور التالية تشير إلى الطريق على التقاطع هو طريق ثانوي وأنه يجب أن تعطى أولوية للطريق الرئيسي

**Soru 20.** Aşağıdaki yer işaretlemelerinden hangisi bölünmüş yol başlangıcı anlamındadır?

- A) 
- ✓ B) 



C)



D)

Question 20. Which of the following site markings is the beginning of the divided path?

السؤال 20: أي من علامات تخطيط الطريق هي بداية الطريق المقسوم

**Soru 21.**Aşağıdakilerden hangisi araç geçmede uyulması gereken kurallardan biri değildir?

- ✓ A) Emniyet şeridini kullanarak öndeki aracı geçmek
- B) Geçmeden önce sola dönüş ışığını yakmak
- C) Karşı yönden gelen trafiği kontrol etmek
- D) Başka araç tarafından geçilmiyor olmak

Question 21. Which one of the following is not one of the rules that must be followed?

السؤال 21 أي مما يلي هو ليس من القواعد التي يجب أن تتبع

A) Passing the vehicle ahead using the safety lane

B) Turn on the light to turn left before passing

C) Control traffic from the opposite side

D) Not being passed by another vehicle

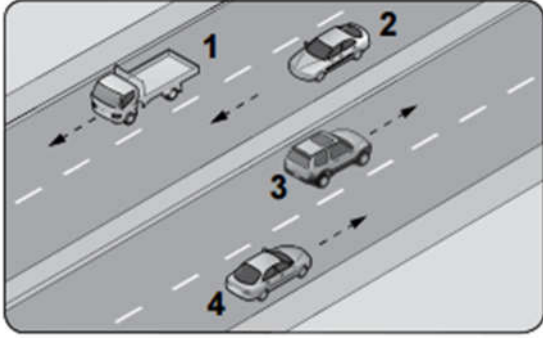
(1) تجاوز السيارة باتجاه الأمام باستخدام المسار الأيمن (حارة المرور الأمنة)

(2) تشغيل الغماز لليسار قبل التجاوز

(3) مراقبة حركة المرور من الاتجاه المعاكس

(4) أن لا يتم تجاوزه من أي سيارة أخرى

**Soru 22.**Şekle göre hangi numaralı araçların, buldukları şeridi sürekli olarak işgal etmeleri yasaktır?



- A) 1 ve 2
- B) 1 ve 3
- ✓ C) 2 ve 3
- D) 3 ve 4

Question 22. According to supra, which numbered vehicles are they forbidden to occupy the strip constantly?

- A) 1 and 2
- B) 1 and 3
- C) 2 and 3
- D) 3 and 4

السؤال 22: حسب الشكل أي من السيارات تحتل حارة مرور غير صحيحة باستمرار

- (1) 1 و 2
- (2) 1 و 3
- (3) 2 و 3
- (4) 3 و 4

**Soru 23.** Aşağıdakilerden hangisi, araç hızının gerekli şartlara uygunluğunu sağlamak için yapılması gerekenlerdendir?

- A) Diğer araçların ilerleyişine engel olacak şekilde yavaş sürülmesi
- ✓ B) Tepe üstlerine yaklaşırken hızın azaltılması
- C) Dönemeçlere girerken hızın artırılması
- D) Yüklemede gabarinin üzerine çıkılması

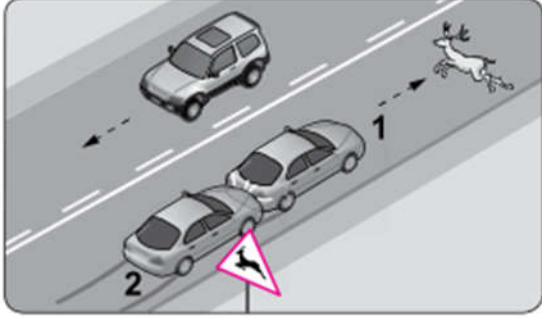
Question 23. Which of the following should be done in order to ensure that the vehicle speed meets the required conditions?

- A) Slowly driving in such a way as to prevent the progress of other vehicles
- B) Reducing speed while approaching tops
- C) Increase speed as you enter the treadmills
- D) Exit over the gabarin at the loading

السؤال 23: أي مما يلي يجب القيام به للتأكد بأن سرعة السيارة تلبى المتطلبات والشروط المطلوبة

- (1) القيادة ببطء بطريقة تعيق تقدم السيارات الأخرى
- (2) تخفيض السرعة عند الوصول لقمة الطريق
- (3) زيادة السرعة عند دخول
- (4) المرور فوق الخط الاجباري

**Soru 24.** Şekle göre 1 numaralı araca arkadan çarpan 2 numaralı araç sürücüsü hakkında aşağıdakilerden hangisi kesinlikle söylenir?



- A) Gözlerinin iyi görmediği
- B) Hız kurallarına uymadığı
- C) Araç lastiklerinin eski olduğu
- ✓ D) Takip mesafesi kuralını ihlal ettiği

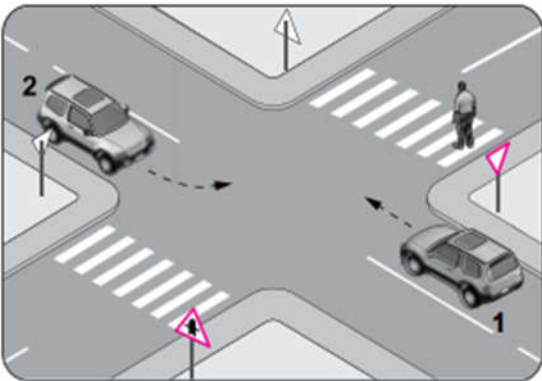
Question 24. Which one of the following is strictly said about vehicle driver number 2, which is multiplied by vehicle number 1 from the rear?

- A) The eyes do not see well
- B) does not comply with speed rules
- C) If the vehicle tires are old
- D) Violation of the follow-up rule

السؤال 24 ماهو الشيء الذي يقال عن سائق السيارة رقم 2 والذي صدم السيارة رقم 1 من الخلف

- (1) العيون لا ترى جيداً
- (2) لا يتوافق أو يمتثل لقواعد السرعة
- (3) دولاب السيارة قديم
- (4) انتهاك قواعد مسافة التعقب أو مسافة الأمان

**Soru 25.** Şekildeki gibi sola dönüş yapacak olan 2 numaralı araç sürücüsü aşağıdakilerden hangilerini yapmalıdır?

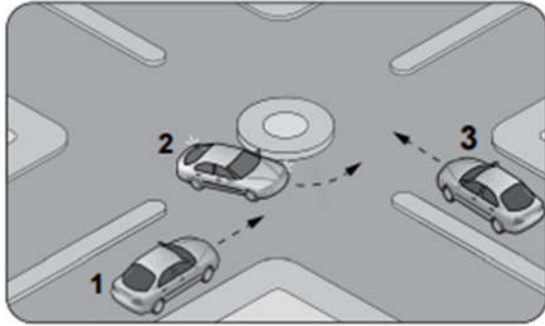


- I. Dar bir kavisle dönmeli
- II. Yayanın geçmesini beklemeli
- III. Sola dönüş lambasını yakmalı
- IV. İlk geçiş hakkını 1 numaralı araca vermeli

- A) I ve IV.  
 B) II ve III.  
 C) I, II ve III.  
 ✓D) II, III ve IV.

<p>Question 25. The number 2 car driver that will turn left like in the figure, which one should do the following?</p> <p>I. Turn with a narrow curve        II. Waiting for the pass        III. Burn left turn lamp        IV. Must give first pass by car number 1</p> <p>A) I and IV.        B) II and III.        C) I, II and III.        D) II, III and IV.</p>	<p>السؤال 25: السائق رقم 2 والذي سيلف للسيارة كما هو موضح بالشكل والذي يتوجب عليه فعل مايلي</p> <p>(1) الالتفاف بمنحني ضيق        (2) الانتظار حتى يعبر المشاة        (3) اشعال غماز الانعطاف للسيارة        (4) يجب أن يعطي أولوية مرور للسيارة رقم 1</p> <p>أ- 1 و 4        ب- 2 و 3        ت- 1، 2 و 3        ث- 2، 3 و 4</p>
--	--

**Soru 26. Şekildeki kavşakta ilk geçiş hakkı sıralaması nasıl olmalıdır?**



- A) 1 - 2 - 3  
 B) 1 - 3 - 2  
 ✓C) 2 - 3 - 1  
 D) 3 - 1 - 2

<p>Question 26. How should the right of first passage be listed at the intersection above?</p> <p>A) 1 - 2 - 3        B) 1 - 3 - 2        C) 2 - 3 - 1        D) 3 - 1 - 2</p>	<p>السؤال 26: كيف يمكن أن يكون التسلسل الصحيح للعبور في العقدة الموضحة بالشكل</p> <p>أ- 1-2-3        ب- 1-3-2        ت- 2-3-1        ث- 3-1-2</p>
--	---

**Soru 27.**Aşağıdaki yerlerden hangisinde duraklama yapılması yasak değildir?

- A) Sol şeritte
- B) Dönemeçlerde
- C) Yaya ve okul geçitlerinde
- ✓D) Duraklara 30 metre mesafede

Question 27. Is it not forbidden to pause in any of the following places? A) Left lane B) At the turn C) On pedestrian and school crossings D) 30 meters from the stops	السؤال 27: لا يمنع التوقف في من الحالات التالية 1) حارة المرور اليسارية 2) في الدوار 3) على ممر المشاة وأمام ممرات المدارس 4) 30 متر من المواقف
---	---

**Soru 28.**I. Gece öndeki araç geçilirken uzağı gösteren ışıkların kullanılması gerekir.  
II. Sis ışıklarının; sis, kar, şiddetli yağmur sebebiyle görüşün yetersiz olduğu hâller dışında kullanılması yasaktır.

**Yukarıda verilenler için hangisi söylenir?**

- A) I. doğru, II. yanlış
- ✓B) I. yanlış, II. doğru
- C) Her ikisi de doğru
- D) Her ikisi de yanlış

Question 28.I. When driving in front of the car at night, the lights that show the far distance should be used. II. The fog lights; fog, snow or heavy rain, it is forbidden to use it except in situations where it is insufficient. Which is said for the above? A) I. right, II. false B) I. wrong, II. right C) Both are right D) Both are wrong	السؤال 28: 1- عند القيادة أمام سيارة في الليل يجب استعمال الأنوار العالية 2- أنوار الضباب: الضباب، الثلج والمطر الغزير فإنه من الممنوع استخدامها إلا في الحالات التي تكون فيها غير كافية أي من المذكور أعلاه يقال 1) 1 صح و 2 خطأ 2) 1 خطأ و 2 صح 3) الجوابين صح 4) الجوابين خطأ
--	---

**Soru 29.**Kamyon, kamyonet ve römorklarda yükü birlikte yolcu taşınırken aşağıdakilerden hangisinin yapılması yasaktır?

- ✓ A) Yüklerin üzerine yolcu bindirilmesi
- B) Kasanın yan ve arka kapaklarının kapalı olması
- C) Yolcuların kasa içinde ayrılacak bir yerde oturtulması
- D) Yüklerin sağlam olarak yerleştirilmiş ve bağlanmış olması

<p>Question 29. Which of the following is forbidden when carrying passengers with loads on trucks, trucks and trailers?</p> <p><b>A) Passenger loading on cargo</b></p> <p>B) The side and back covers of the cabin are closed</p> <p>C) Sitting passengers in a safe place</p> <p>D) Loads are properly installed and connected</p>	<p>السؤال 29 : أي مما يلي ممنوع عند حمل مسافرين مع البضاعة على الشاحنة، أو الشاحنات مع المقطرات</p> <p>(1) المسافرين محمولين على البضاعة المشحونة</p> <p>(2) جوانب وخلف الكابين مغطاة ومغلقة</p> <p>(3) أجلس المسافرين في مكان آمن</p> <p>(4) الحمولات تحمل بشكل جيد وترتبط</p>
--	---

**Soru 30.I.** Sürücü ve yolcuları araçta tutarak vücudun ileri-sağa-sola veya yukarı vurmasını önler.

II. Kaza anında ölüm ve yaralanmaları en aza indirmek amacıyla sürücü ve yolcular tarafından kullanılır.

III. Yerleşim yeri içinde ticari amaçla yolcu taşımacılığı yapan minibüs ile dolmuş otomobillerindeki yolcuların emniyet kemeri takması zorunlu değildir.

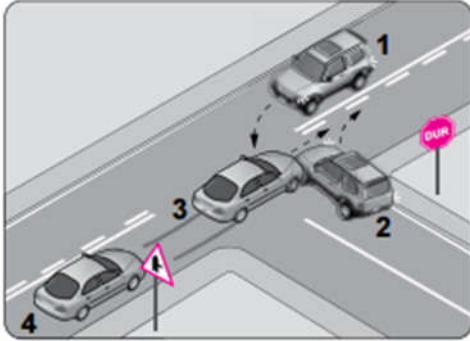
**Emniyet kemeri ve kullanımıyla ilgili olarak yukarıda verilenlerden hangileri doğrudur?**

- A) I ve II.
- B) I ve III.
- C) II ve III.
- ✓ D) I, II ve III.

<p>Question 30.I. It keeps the driver and the passengers in the vehicle and prevents the body from going forward, right-left or up.</p> <p>II. In the event of an accident, deaths and injuries are used by the driver and passengers to reduce the most.</p> <p>III. It is not compulsory for the passengers in the minibüs and the passenger cars to carry the seat belt in the settlement for commercial purposes.</p> <p>What about the safety belt and how to use it is correct?</p> <p>A) I and II.</p> <p>B) I and III.</p> <p>C) II and III.</p> <p><b>D) I, II and III.</b></p>	<p>السؤال 30:</p> <p>1- يبقي السائق والركاب داخل المركبة ويمنع الجسم من الحركة للأمام واليمين واليسار أو للأعلى</p> <p>2- يستخدم من قبل السائق والركاب لتقليل الموت والاصابات عند وقوع الحوادث</p> <p>3- هو ليس ضرورياً للركاب في الميني باص والركاب في السيارة أن يضعوا حزام الأمان في المناطق السكنية والتجارية</p> <p>أي مما ذكر أعلاه حول حزام الامان وكيفية استخدامه</p> <p>أ- 1 و 2</p> <p>ب- 1 و 3</p> <p>ت- 2 و 3</p> <p>ث- 1 و 2 و 3</p>
--	---



**Soru 31.** Şekildeki kazada hangi numaralı araç sürücüsü asli kusurlu sayılır?



- A) 1
- ✓ B) 2
- C) 3
- D) 4

Question 31. What numbered vehicle driver is considered to be defective in the above accident?

- A) 1
- B) 2
- C) 3
- D) 4

السؤال 31 ماهو رقم السائق في الشكل أعلاه الي يعتبر مخطئاً

- أ- 1
- ب- 2
- ت- 3
- ث- 4

**Soru 32.** Aracına "LPG" sistemi taktıran bir kişi, bu durumu kaç gün içinde ilgili kuruluşa bildirmek zorundadır?

- ✓ A) 30
- B) 40
- C) 50
- D) 60

Question 32. Does a person who installs the "LPG" system in the vehicle have to notify the relevant organization within a few days?

- A) 30
- B) 40
- C) 50
- D) 60

السؤال 32 كم يتوجب على الشخص الذي يركب جهاز غاز أن يعلم السلطات المختصة ضمن فترة معينة

- 30 (1)
- 40 (2)
- 50 (3)
- 60 (4)

**Soru 33.**Aşağıdaki taşıtların hangisinde takograf cihazının bulundurulması zorunlu değildir?

- A) Çekici
- ✓ B) Otomobil
- C) Otobüs
- D) Kamyon

Question 33. In which of the following vehicles is it not necessary to have a recording device?	السؤال 33: أي من السيارات التالية ليس من الضروري أن يكون فيها جهاز تسجيل
A) Attractive	(1) حسنة الشكل
<b>B) Cars</b>	<b>(2) السيارات السياحية</b>
C) Bus	(3) الباص
D) Truck	(4) الشاحنة

**Soru 34.**Aşağıdakilerden hangisi özel araçların gereksiz kullanılmasının sonuçlarındandır?

- A) Yakıt tüketiminin azalması
- B) Gürültü kirliliğinin önlenmesi
- ✓ C) Zararlı gaz salınımının artması
- D) Trafik yoğunluğunun azalması

Question 34. Which of the following is the result of unnecessary use of special vehicles?	السؤال 34: أي مما يلي هو ناتج عن الاستخدام غير الضروري للسيارات الخاصة
A) Decrease in fuel consumption	(أ) التقليل من استهلاك الوقود
B) Prevention of noise pollution	(ب) منع التلوث بالضجيج
<b>C) Increase of harmful gas release</b>	<b>(ت) تقليل انبعاث الغازات الضارة</b>
D) Decrease in traffic intensity	(ث) تقليل غزارة المرور

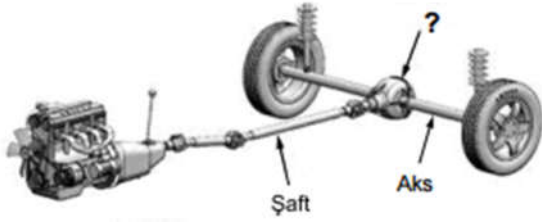
**Soru 35.**Haritada yeri gösterilen illerden hangisi daha güneydedir?



- A) Uşak
- B) Sivas
- C) Trabzon
- ✓ D) Konya

Question 35. Which of the illusions located in the harbor is further south?	السؤال 35 أي من المحافظات التالية تقع في الجنوب أبعد من غيرها
A) Uşak	-1 أوشاق
B) Sivas	-2 سيفاش
C) Trabzon	-3 طرابزون
D) Konya	-4 قونيا

**Soru 36.** Şekilde soru işareti (?) ile gösterilen ve şafttan aldığı hareketi aksa ileten güç aktarma organının adı nedir?



- A) Balata
- B) Amortisör
- ✓ C) Diferansiyel
- D) Vites kutusu

Question 36. What is the name of the powertrain that is indicated by the question mark (?) On the top and that conveys the axle of movement from the shafts?	السؤال 36 ماهو اسم القطعة من أجزاء الحركة المشار إليها بإشارة استفهام في الشكل أعلاه والتي تنقل الحركة المحورية من الشافت
A) Balata	(1) البلاطا
B) Shock absorber	(2) مخفف الصدمات (الامتصور)
C) Differential	(3) الديرنسيه
D) Gearbox	(4) علية السرعة

**Soru 37.** Soğutma suyunun çıkışı veya girişine yerleştirilen ve motordaki soğutma suyu sıcaklığının belirli bir seviyede tutulmasını sağlayan araç aşağıdakilerden hangisidir?

- A) Buji

- B) Enjektör
- C) Su pompası
- ✓D) Termostat

Question 37 Which vehicle is installed at the outlet or inlet of the cooling water and which keeps the temperature of the cooling water at the engine at a certain level?	السؤال 37 أي قطعة تركيب على القطعة الخارجية للراديتور والتي تحافظ على حرارة مياه التبريد في المحرك عند حد معين
A) Spark plug	(1) البوجي
B) Injector	(2) البخاخ
C) Water pump	(3) مضخة المياه
D) Thermostat	(4) الثيرموستات

**Soru 38.** Araç motorunun çalışması için ilk hareketi veren sistem aşağıdakilerden hangisidir?

- ✓A) Marş sistemi
- B) Yağlama sistemi
- C) Yakıt sistemi
- D) Ateşleme sistemi

Question 38. Which system is the one that gives the first action for the operation of the car engine?	السؤال 38: أي نظام نستخدمه أولاً عند تشغيل السيارة
A) Starter system	(1) نظام الاقلاع (المارش)
B) Lubrication system	(2) نظام الزيت
C) Fuel system	(3) نظام الوقود
D) Ignition system	(4) نظام الاشعال

**Soru 39.** Aracın gösterge panelinde şekildeki uyarı lambasının yanıyor olması neyi bildirir?



- A) Motor kaputunun tam kapanmadığını
- ✓B) Lastik hava basıncının düşük olduğunu
- C) Soğutma sıvısı sıcaklığının çok yükseldiğini
- D) Fren balatalarının görevini tam yapmadığını

<p>Question 39. What does the warning lamp on the vehicle display indicate?</p> <p>A) The engine bonnet is not fully closed</p> <p><b>B) Low tire pressure</b></p> <p>C) If the temperature of the cooling fluid is too high</p> <p>D) The brake pads are not performing their duty fully</p>	<p>السؤال 39: ماذا يعني ظهور لمبة الاشارة الموجودة في الشكل</p> <p>(1) غطاء المحرك غير مغلق تماماً</p> <p>(2) ضغط منخفض في الإطارات</p> <p>(3) إذا كانت حرارة سائل التبريد مرتفعة جداً</p> <p>(4) دعاسات الفرامل لاتقوم بدورها بشكل مناسب</p>
---	---

**Soru 40.** Motor çalışır durumda iken aracın gösterge panelinde şekildeki ikaz ışığının yanıyor olmasının sebebi, aşağıdakilerden hangisi olabilir?



- ✓ A) Yağ seviyesinin azalması
- B) Depodaki yakıtın azalması
- C) Fren hidroliğinin eksilmesi
- D) Radyatörde antifrizin olmaması

<p>Question 40. Which of the following can be the reason why the warning light on the vehicle's instrument panel is on when the engine is running?</p> <p><b>A) Decrease in oil level</b></p> <p>B) Reduced fuel consumption</p> <p>C) Decrease of brake fluid</p> <p>D) No antifreeze in the radiator</p>	<p>السؤال 40: أي مما يلي قد يكون السبب في أن تكون ضوء التحذير مضاء على لوحة التحكم خلال فترة عمل المحرك</p> <p>(1) نقص مستوى الزيت</p> <p>(2) استهلاك وقود أقل</p> <p>(3) نقص زيت الفرامل</p> <p>(4) لا يوجد مضاد تجمد في الراديتور</p>
--	---

**Soru 41.** Aşağıdakilerden hangisinin, çok soğuk hava şartlarında motor soğutma suyuna katılması donmayı önler?

- A) Akü elektroliti
- B) Motor yağı
- C) Fren hidroliği
- ✓ D) Antifriz

<p>Question 41. Which of the following is involved in engine coolant in very cold weather conditions prevents freezing?</p> <p>A) Battery electrolyte</p> <p>B) Engine oil</p> <p>C) Brake hydraulics</p> <p>D) Antifreeze</p>	<p>السؤال 41: أي مما يلي مسؤول عن منع تجمد السائل الموجود في المبرد</p> <p>(1) الكترولود البطارية</p> <p>(2) زيت المحرك</p> <p>(3) هيدروليك الفرامل</p> <p>(4) مضاد التجمد</p>
--	--

**Soru 42. Araçta kullanım ömrünü tamamlamış lastiklerin kullanılması aşağıdakilerden hangisini artırır?**





- A) Sürüş konforunu
- ✓ B) Trafik kazası riskini
- C) Direksiyon hâkimiyetini
- D) Aracın yol üzerinde tutunmasını

<p>Question 42. Which of the following increases the use of finished tires?</p> <p>A) Driving comfort</p> <p>B) Risk of traffic accidents</p> <p>C) Steering dominance</p> <p>D) Keeping the car on the road</p>	<p>السؤال 42: إن استخدام الإطارات المنتهية العمر يزيد مما يلي</p> <p>(1) القيادة المريحة</p> <p>(2) خطر حوادث الطرق</p> <p>(3) حاكمية الدركسيون</p> <p>(4) إبقاء السيارة على الطريق</p>
--	---

**Soru 43.**• Aracın hızı azaltılır.

- En sağ şeride, varsa banket üzerine geçilir.
- Araç motoru durdurulur ve dörtlü ikaz ışıkları yakılır.

**Yukarıdaki uygulamalar, araç gösterge panelinde hangi uyarı ışığının yanması hâlinde yapılır?**

- A) 
- B) 
- ✓ C) 
- D) 

<p>Question 43. • The speed of the car is reduced.</p> <ul style="list-style-type: none"> <li>• On the right-hand side, if there is a banquet.</li> <li>• The vehicle engine is switched off and the four warning lights are switched on.</li> </ul> <p>Which of the above applications is made in which warning light on the vehicle instrument panel is lit?</p>	<p>السؤال 43:</p> <ul style="list-style-type: none"> <li>- سرعة السيارة قد خفت</li> <li>- على جانب الطريق الأيمن هناك بانكيت</li> <li>- تم إطفاء محرك السيارة وتم إشعال الفلشر الرباعي</li> </ul> <p>أي من التطبيقات التالية يتم إجراؤه والتي يتم إشعال أضواء التحذير في السيارة</p>
--	--

**Soru 44.**I. Ani hızlanmalar yapılması

II. Araç lastiklerinin eskimesi

III. Hava filtresinin değiştirilmesi

**Yukarıdakilerden hangileri yakıt tüketiminin artmasına neden olur?**

- A) Yalnız I
- ✓ B) I ve II.
- C) II ve III.
- D) I, II ve III.

<p>Question 44.I. Rapid acceleration</p> <p>II. The tire of vehicle tires</p> <p>III. Changing the air filter</p> <p>Which of the above causes fuel consumption to increase?</p> <p>A) I alone</p> <p>✓ B) I and II.</p> <p>C) II and III.</p> <p>D) I, II and III.</p>	<p>السؤال 44:</p> <ul style="list-style-type: none"> <li>- السرعة المتزايدة</li> <li>- عمر إطارات السيارة</li> <li>- تغيير فلتر الهواء</li> </ul> <p>أي مما ذكر أعلاه يسبب زيادة استهلاك الوقود</p> <p>أ) 1 فقط</p> <p>ب) 1 و 2</p> <p>ت) 2 و 3</p> <p>ث) 1 و 2 و 3</p>
---	---

**Soru 45.** "Hiçbir toplum 24 saat trafik zabıtası tarafından denetlenemez. Toplum yararına kesintisiz denetim - - - - ile mümkündür."

**Verilen ifadede boş bırakılan yere aşağıdakilerden hangisi yazılmalıdır?**

- ✓ A) trafik adabı
- B) trafik cezası
- C) trafik terörü
- D) trafik müfettişi

<p>Question 45. "No community can be inspected 24 hours a day by traffic signs.</p>	<p>السؤال 45 لا يوجد أي مجتمع يمكن ضبطه بإشارات المرور لمدة 24 ساعة لكنها تظل ممكنة مع التحكم ..... من أجل فائدة المجتمع</p>
---	--

<p>Uninterrupted inspection for the benefit of the community is possible with - - - - . "</p> <p>Which one of the following should be written in the given idiom?</p> <p>A) traffic Adabi</p> <p>B) traffic fine</p> <p>C) traffic terrorism</p> <p>D) traffic inspector</p>	<p>(1) ادبيات المرور</p> <p>(2) مخالفات المرور</p> <p>(3) إرهاب المرور</p> <p>(4) مفتش المرور</p>
--	---

**Soru 46.**Trafik kazası, sadece maddi hasarlı bile olsa yaşanması hiç istenmeyen ve kazaya karışan sürücüleri psikolojik olarak olumsuz etkileyen bir durumdur.

**Buna göre kaza sonrası tarafların birbirine hangi şekilde davranması hâlinde meydana gelen kaza ile ilgili sorunlar daha kısa sürede çözülecektir?**

- A) Asabi
- B) Aşırı tepkili
- C) Kaba ve saldırgan
- ✓D) Saygılı ve nezaketli

<p>Question 46. A traffic accident is a situation that has a psychological negative effect on the drivers who are involved in the accident even if it is not only the property but also the accident.</p> <p>According to this, after the accident, how will the parties behave towards each other, will the problems related to the accident be resolved in a shorter time?</p> <p>A) Asabi</p> <p>B) Overactive</p> <p>C) Rude and aggressive</p> <p>D) Respectful and courteous</p>	<p>السؤال 46:</p> <p>إن حادث المرور هو حالة فيزيائية لها تأثير سلبي على السائقين المتورطين في الحادث حتى ولو تكن فقط مادية</p> <p>وطبقاً لهذا، بعد الحادث كيف ستتصرف الأطراف مع بعضها وهل ستحل المشكلة المسببة للحادث بأسرع وقت</p> <p>(أ) إصابة</p> <p>(ب) أفعال شديدة وقوية</p> <p>(ت) الوقاحة والعناد</p> <p>(ث) الاحترام واللباقة</p>
--	---

**Soru 47.**Trafik içinde hatalı davranış sergileyen bir sürücüyü uyarmak aşağıdakilerden hangisini azaltır?

- A) Trafikteki araç sayısını
- ✓B) Sürücünün kaza yapma riskini



- C) Yayaların yaya geçidini kullanma oranlarını  
D) Diğer sürücülerin trafik kurallarına uyma yüzdelerini

<p>Question 47. Which one of the following is less likely to warn a driver exhibiting erratic behavior in traffic?</p> <p>A) Number of vehicles in the traffic B) The risk of your driver making an accident C) Use of pedestrian crossings D) Percentage of other drivers to comply with traffic rules</p>	<p>السؤال 47 أي مما يلي هو أقل ما يمكن لتحذير سائق يتصرف بشكل خاطئ مرورياً</p> <p>(1) عدد السيارات المارة (2) خطر أن السائق قد يتسبب بحادث (3) استخدام ممر المشاة (4) نسبة السائقين الممتثلين لواعد المرور</p>
---	--

**Soru 48.** Kendinden çok başkalarını düşünen, başkalarının iyiliği için fedakârlık yapan ve özgeci şeklinde tanımlanır. Yardım etme davranışının bir alt kategorisidir.

**Yukarıdaki açıklama hangi davranış özelliğine aittir?**

- A) Bencilik  
B) Saldırganlık  
✓ C) Diğergamlık  
D) Sorumsuzluk

<p>Question 48. It is defined as an altruist who thinks much more than others, sacrifices for the well-being of others. It's a sub-category of helping behavior.</p> <p>What behavioral attribute does the above description belong to?</p> <p>A) Selfishness B) Aggressiveness C) Other D) Irresponsibility</p>	<p>السؤال 48: أنه من المعروف أن الشخص الذي يفكر أكثر من الآخرين فإنه يضحي من أجل سلوك وأداء الآخرين وهو شيء من سلوك مساعدة الآخرين</p> <p>إلى أي سلوك يتبع القول المذكور أعلاه</p> <p>(1) الأنانية (2) العدائية (3) غيرها (4) عدم المسؤولية</p>
--	---

**Soru 49.** Aşağıdakilerden hangisi, trafikte diğerlerine göre daha çabuk ve fazla öfkelenen sürücülerin yol açtığı bir durum değildir?

- A) Sabırsızlık ve tahammülsüzlüğün artması  
✓ B) Kazaya karışma olasılığının azalması  
C) Kural ihlallerinin artması  
D) Dikkatin dağılması

<p>Question 49. Which of the following is not a situation caused by drivers who are faster and more angry than others in traffic?</p> <p>A) Increased impatience and intolerance</p> <p>B) Reduced likelihood of confusion with the accident</p> <p>C) Increase in rule violations</p> <p>D) Distraction</p>	<p>السؤال 49:</p> <p>أي مما يلي هو حالة تسبب بها السائق والذي هو أسرع وأكثر غضباً من غيره العابرين في الطريق</p> <p>(1) ازدياد قلة الصبر والتعصب</p> <p>(2) الحد من احتمال الارتباك مع الحادث</p> <p>(3) زيادة خروقات الأنظمة</p> <p>(4) الإلهاء</p>
--	--

**Soru 50.**I. Orta refüjlere ve yol kenarlarına dikilen ağaçların zarar görmesi  
 II. Köprü ve tünel gibi noktalarda yaşanan kazalarda ulaşımın aksaması  
 III. Trafo ve elektrik direğine çarpma gibi durumlarda kesintilerin yaşanması  
 IV. Bilhassa yakıt, kimyasal madde, tıbbi atık vs. yüklü araçların yaptığı kazalar neticesinde büyük ekolojik zararların görülmesi  
**Yukarıdakilerden hangileri kara yolundameydana gelen trafik kazalarının kişiye, topluma, kamuya ve çevreye verdiği zararlardandır?**

- A) I ve II.  
 B) I, III ve IV.  
 C) II, III ve IV.  
 ✓D) I, II, III ve IV.

<p>Question 50.I. Damage to trees planted in the middle reflections and roadside</p> <p>II. Access to the accidents that are happening in places such as bridges and tunnels</p> <p>III. Interruption in situations such as transformer and electric pole strikes</p> <p>IV. Especially fuel, chemical, medical waste etc. large ecological damage due to accidents caused by installed vehicles</p> <p>Which of the above is the harm that traffic accidents coming to you on the road leads to the person, the collecting, the public and the environment?</p> <p>A) I and II.</p> <p>B) I, III and IV.</p> <p>C) II, III and IV.</p> <p>D) I, II, III and IV.</p>	<p>السؤال 50</p> <p>1- الأذى للأشجار المزروعة في المنصفات وعلى جوانب الطريق</p> <p>2- الوقوع في الحوادث التي تحصل على الجسور وفي الأنفاق</p> <p>3- التسبب في أوضاع مثل ضرب المحولات والأقطاب الكهربائية</p> <p>4- خصوصاً الوقود السائل، المواد الكيميائية والنفايات الطبية الخ. تسبب ضرراً بيئياً كبيراً بحسب الحوادث التي تسببها السيارات التي تحملها</p> <p>أي من التعابير أعلاه تسبب الحوادث التي تقع على الطرق من ضرر للأشخاص والمجتمع والناس والبيئة</p> <p>(أ) 1 و 2</p> <p>(ب) 1 و 3 و 4</p> <p>(ت) 2 و 3 و 4</p> <p>(ث) 1 و 2 و 3 و 4</p>
--	---