

11 Şubat 2017 Ehliyet soruları

**Soru 1.** Aşağıdakilerden hangisi, ilk yardım uygulamalarında ilk yardımcının kendisi ve kazazede için alması gereken önlemlerden biri değildir?

- A) Kırıklara yerinde müdahale etmesi
- B) Kazazedenin korku ve endişelerini gidermesi
- C) Kazazedeyi hareket ettirmeden müdahale yapması
- ✓ D) Kendisinden önce kazazedenin emniyetini sağlaması

Question 1. Which of the followings is not one of the precautions for the first aid person himself and the victim in first aid practice?	السؤال الأول أي مما يلي ليس من تطبيقات الإسعافات الأولية التي يقوم بها المسعف والمصاب
A) In-situ intervention of fractures	1- التدخل في الموقع بالنسبة للكسور
B) Fear and anxiety of the survivors	2- الخوف والقلق من قبل الناجيين
C) To intervene without moving Kazazedeyi	3- التدخل بدون تحريك المصاب
D) He has secured his safety before him	4- تأمين سلامة المصاب قبل تأمين نفسه

**Soru 2.** Aşağıdakilerden hangisi, vücuda gerekli olan gaz alışverişi görevini yaparak hücre ve dokuların oksijenlenmesini sağlayan organlardandır?

- A) Mide
- B) Böbrek
- ✓ C) Akciğer
- D) Pankreas

Question 2. Which of the following is the organ that makes the cells and tissues oxygenate by performing the necessary gas exchange function for the body?	السؤال الثاني أي مما يلي هو العضو الذي يجعل الخلايا والأنسجة تتنفس عبر تبادل الغاز الضروري للجسم
A) Stomach	(1) المعدة
B) Kidney	(2) الكلية
C) Lung	(3) الرئة
D) Pancreas	(4) البنكرياس

**Soru 3.** Solunum durmasında dudaklar, parmak uçları ve burun ucunda görülen morarmaların sebebi aşağıdakilerden hangisidir?

- A) Su kaybı
- ✓ B) Oksijensizlik

- C)Beslenme yetersizliđi  
D)Karbonmonoksit eksikliđi

Question 3. Which of the following is the cause of the bruises seen on the lips, fingertips and tip of the nose in respiratory arrest?  A) Water loss B) <b>asphyxia</b> C) Nutritional deficiency D) Carbonmonoxide deficiency	السؤال الثالث أي مما يلي هو سبب وجود الكدمات المشاهدة على الشفاه ونهايات الأصابع والأنف في حال توقف التنفس  1) فقدان السوائل والماء 2) <b>الاختناق</b> 3) نقص التغذية 4) نقص أول أكسيد الكربون
--	---

**Soru 4.** Yetişkinlerde temel yaşam desteđi uygulamasının 1 turunda yapılan kalp masajı ve suni solunum sayıları hangisinde doğru olarak verilmiştir?

Kalp masajı - Suni solunum

- A)10 - 1  
B)20 - 1  
✓C)30 - 2  
D)40 - 2

Question 4. Which is the correct number of cardiac massage and artificial respiration performed in one round of basic life support practice for adults?  Heart massage - Artificial respiration  A) 10 - 1 B) 20 - 1 C) <b>30 - 2</b> D) 40 - 2	السؤال الرابع ماهو الرقم الصحيح لعدد مرات مساج القلب والتنفس الاصطناعي المنفذ في جولة واحدة من دعم الحياة للبالغين  مساج القلب - التنفس الصناعي  أ) 1-10 ب) 1-20 ت) <b>2-30</b> ث) 2-40
--	--

**Soru 5.** I. Kuvvetle arkaya ve yukarı doğru bastırılır.

II. Kazazedenin arkasına geçip sarılarak gövdesi kavranır.

III. Bir elin başparmađı midenin üst kısmına, göğüs kemiđi altına gelecek şekilde yumruk yaparak konur.

Bilinci açık ve tam tıkanıklık yaşayan bir kazazedeye Heimlich Manevrası uygulayan bir ilk yardımcının, uygulama sıralaması nasıl olmalıdır?

- A)II - I - III  
✓B)II - III - I  
C)III - I - II  
D)III - II - I

<p>Question 5.I. It is strongly pressed backwards and upwards.</p> <p>II. He clings to the back of his hand and embraces his body.</p> <p>III. Place a hand with your fist clenched in the upper part of the spine, below the chest.</p> <p>How should the practice order of a first-aider who implements Heimlich Maneuver in a casualty of conscious and complete congestion be?</p> <p>A) II - I - III</p> <p>B) II - III - I</p> <p>C) III - I - II</p> <p>D) III - II - I</p>	<p>السؤال الخامس</p> <p>1. يتم الضغط للخلف والأمام بقوة</p> <p>2. يتم لف المصاب ويقف المسعف خلفه</p> <p>3. توضع الابهام على الجزء العلوي من المعدة</p> <p>كيف يكون التصرف من المسعف الأولي والذي يقوم بمناورة هيلمتش في حالة وجود مصاب وعيه كامل</p> <p>أ) 3،1،2</p> <p>ب) 1،3،2</p> <p>ت) 2،1،3</p> <p>ث) 1،2،3</p>
--	--

**Soru 6.** Bacaktaki kanamalarda şekilde gösterilen hangi bölgeye basınç uygulanmalıdır?



- ✓ A) Kasık
- B) Boyun
- C) Koltuk altı
- D) Köprücük kemiği üzeri

<p>Question 6. Which pressure should be applied to the area shown in the bleedings?</p> <p>A) Groin</p> <p>B) Neck</p> <p>C) Underarm</p> <p>D) On the clavicle</p>	<p>السؤال السادس ماهو الضغط الذي يجب أن يطبق على المنطقة الموضحة بالشكل والتي هي في حال نزيف</p> <p>1- الفخذ</p> <p>2- الرقبة</p> <p>3- تحت الابط</p> <p>4- الترقوة</p>
---	---

**Soru 7.** Aşağıdakilerden hangisi, şoka girmiş kazazedede görülebilecek belirtilerden biri değildir?

- ✓ A) Kan basıncında yükselme
- B) Bilinç seviyesinde azalma
- C) Hızlı ve yüzeysel solunum
- D) Ciltte soğukluk, solukluk ve nemlilik

Question 7. Which one of the following is not one of the signs that can be seen in the casualty entering the shore?	السؤال السابع: أي مما يلي هو ليس بإشارة ممكن أن تشاهد في المصاب الذي لديه صدمة
A) Increase in blood pressure	1- زيادة ضغط الدم
B) Decrease in consciousness level	2- نقص مستوى الوعي
C) Fast and superficial respiration	3- التنفس السريع والسطحي
D) Coldness, paleness and humidity on the skin	4- البشرة باردة وشاحبة ورطبة

**Soru 8.** Aşağıdakilerden hangisi, delici karın yaralanmalarında yapılan doğru ilk yardım uygulamalarındandır?

- A) Ağızdan yiyecek ya da içecek verilmesi
- B) Dışarı çıkan organların içeri sokulmaya çalışılması
- C) Isı kaybını önlemek için kazazedeye soğuk uygulama yapılması
- ✓ D) Kazazedenin bilinci yerindeyse sırtüstü pozisyonda bacaklar bükülmüş olarak yatırılması

Question 8. Which of the following is the correct first aid practice for penetrating abdominal injuries?	السؤال الثامن أي مما يلي هو إجراء الاسعاف الأولي الصحيح لجروح الاختراقات في البطن
A) Giving food or drink to the mouth	1 إعطاء طعام أو شراب عبر الفم
B) Trying to get the organs out	2 محاولة إخراج الأعضاء خارجاً
C) Cold application to the casualty to prevent heat loss	3 تطبيق البرودة على المصاب لمنع فقد الحرارة
D) Tilting the legs bent on the supine position at the supine position	4 إمالة الساقين بوضعية

**Soru 9.** Aşağıdakilerden hangisi, burkulmalarda yapılan hatalı ilk yardım uygulamalarındandır?

- A) Tıbbi yardım istenmesi
- ✓ B) Burkulan bölgenin hareket ettirilmesi
- C) Sıkıştırıcı bir bandajla burkulan eklem tespit edilmesi
- D) Şişliği azaltmak için burkulan bölgenin yukarı kaldırılması

<p>Question 9. Which of the followings is erroneous first aid practices performed on sprains?</p> <p>A) Request for medical assistance</p> <p><b>B) Moving the bumper zone</b></p> <p>C) Detection of a sprained joint with a compressive bandage</p> <p>D) Lift up the sprained area to reduce swelling</p>	<p>السؤال التاسع: أي مما يلي هو من تطبيقات الإسعافات الأولية الخاطئة لمطبة في الالتواء</p> <p>(1) طلب المساعدة الطبية</p> <p><b>(2) تحريك المنطقة الملتوية</b></p> <p>(3) تثبيت منطقة الالتواء بضماد لاقط</p> <p>(4) رفع منطقة الالتواء للحد من التورم</p>
--	--

**Soru 10.** Bilinci kapalı ve solunumu olan bir kazazedeye, herhangi bir yaralanması yoksa aşağıdaki pozisyonlardan hangisi verilmelidir?

- ✓ A) Koma pozisyonu  
 B) Alt-çene pozisyonu  
 C) Baş-çene pozisyonu  
 D) Şok pozisyonu

<p>Question 10. Which one of the following positions should be given if there is no injury to the first closed and breathing casualty?</p> <p>A) <b>Coma position</b></p> <p>B) Lower jaw position</p> <p>C) Head-chin position</p> <p>D) Shock position</p>	<p>السؤال 10: أي من الوضعيات التالية يجب أن يعطى إذا لم يكن هناك إصابة فاقدة للوعي والتنفس</p> <p><b>1- وضعية الكوما</b></p> <p>2- وضعية الفك السفلي</p> <p>3- وضعية الفك الرئيسي</p> <p>4- وضعية الصدمة</p>
--	--

**Soru 11.** Beyindeki hücrelerin kontrol edilemeyen, ani, aşırı ve anormal deşarjlarına bağlı olarak ortaya çıkan durumdur.

Bu cümlede tanımı yapılan kavram, aşağıdakilerden hangisidir?

- A) Şok  
 B) Diyabet  
 C) Hipertansiyon  
 ✓ D) Sara krizi

<p>Question 11. The situation arises due to uncontrolled, sudden, excessive and abnormal discharges of cells in the brain.</p> <p>Which of the following is the concept of this definition?</p> <p>A) Shock</p> <p>B) Diabetes</p>	<p>السؤال 11: تظهر أعراض الحالة بحسب التصريف المفاجئ والمفرط وغير الطبيعي للخلايا في الدماغ</p> <p>مفهوم هذه الجملة هة مايلي</p> <p>1- الصدمة</p> <p>2- السكري</p> <p>3- ارتفاع ضغط الدم</p> <p><b>4- نوبة الصرع</b></p>
--	--

C) Hypertension	
D) Sara Crisis	

**Soru 12.**I. Bir ilk yardımcı tarafından uygulanır.  
II. Yürüyemeyen ya da bilinci kapalı olan kişiler için kullanılır.  
Yaralı taşımada kullanılan itfaiyeci yöntemi ile ilgili verilenler için, aşağıdakilerden hangisi söylenebilir?

- A)I. doğru, II. yanlış  
B)I. yanlış, II. doğru  
✓C)Her ikisi de doğru  
D)Her ikisi de yanlış

Question 12.I. It is implemented by a first assistant. II. It is used for people who cannot walk or conscious. Which of the following can be said for those given on the fireman's method of injured transport? A) I. right, II. false ONE. wrong, II. right C) Both are right D) Both are wrong	السؤال 12 1- تنفذ عبر الاسعاف الأولي 2- تستعمل مع الاشخاص الذين لا يستطيعون المشي أو الوعي أي مما ذكر أعلاه يمكن أن تعطى طريقة الاطفائي في نقل المصابين أ) 1 صح 2 خطأ ب) 2 خطأ 1 صح ت) الاثنان صح ث) الاثنان خطأ
--	---

**Soru 13.**Aşağıdakilerden hangisi sürücülerden beklenen olumlu davranış özelliklerindendir?

- A)Saygıyı öncelikle başkalarından beklemek  
✓B)Paylaşmayı bilmek ve saygılı olmak  
C)Kendi kendine kurallar koymak  
D)Kendini üstün görmek

Question 13. Which of the following is positive behavioral characteristics expected from drivers? A) Respect first to wait for others B) Knowing to share and being respectful C) Self-regulation D) To be self-superior	السؤال 13. أي مما يلي تصرف ايجابي متوقع من السائق 1- يتوقع الاحترام من الآخرين 2- معرفة كيفية المشاركة والاحترام 3- التنظيم الذاتي 4- أن يكون مراقباً لذاته
--	---

**Soru 14.**I. Çocuk trafik eğitim parklarının yapılma, açılma, eğitim, denetim ve çalışma esaslarını belirlemek  
II. Sürücü adaylarının teorik ve uygulamalı sınavlarını yapmak ve başarılı olanlara sertifika

verilmesini sağlamak

III. Kara yollarında can ve mal güvenliği yönünden gerekli düzenleme ve işaretlemeleri yaparak tedbirleri almak ve aldirmek

Verilenlerden hangileri Milli Eğitim Bakanlığının trafikle ilgili görevlerindendir?

- ✓A)I ve II  
B)I ve III  
C)II ve III  
D)I, II ve III

<p>Question 14.I. Establishing the principles of construction, opening, training, supervision and operation of children's traffic training parks</p> <p>II. To make theoretical and practical examinations of driver candidates and to give certificates to successful ones</p> <p>III. Taking and taking measures by making necessary arrangements and markings on the roads in terms of safety of life and property</p> <p>Which of the given are the Ministry of National Education's tasks related to traffic?</p> <p><b>A) I and II</b></p> <p>B) I and III</p> <p>C) II and III</p> <p>D) I, II and III</p>	<p>السؤال 14</p> <p>1- تأسيس مبادئ البناء، الانفتاح، الاشراف على التدريب الإشراف والتدريب في حدائق المرور للأطفال</p> <p>2- أن تجري امتحانات نظرية وعملية للسائقين وإعطاء الشهادات للناجحين منهم</p> <p>3- أخذ الإجراءات عبر التحضيرات اللازمة وتخطيط الطرق من خلال سلامة الحياة والممتلكات</p> <p>أي من ما ذكر أعلاه هي من مهام وزارة التربية بالنسبة للمرور</p> <p>( أ) 1 و 2 ب) 1 و 3 ت) 2 و 3 ث) 1 و 2 و 3</p>
---	--

**Soru 15.** Araçların niteliklerini tespit ve kontrol edebilecek cihaz ve personel bulunan, teknik kontrolü yapılan yerlere ne ad verilir?

- A) Servis istasyonu  
B) Araç tartı istasyonu  
C) Akaryakıt istasyonu  
✓D) Muayene istasyonu

<p>Question 15. What is the name of the place where the technical check is made and the equipment and personnel that can identify and control the qualities of the tools?</p> <p>A) Service station</p> <p>B) Vehicle weighing station</p> <p>C) Fuel station</p> <p><b>D) Inspection station</b></p>	<p>السؤال 15 ما اسم المكان الذي يجري فيه الفحص الفني ويوجد هناك الأشخاص والأدوات التي تحدد جودة هذه التجهيزات</p> <p>(1) محطة الصيانة (2) محطة وزن السيارات (3) محطة الوقود (4) <b>محطة الفحص</b></p>
---	---

**Soru 16.** Trafik görevlisinin hangi hareketi zorunlu olarak durmayı gerektirir?



A)



B)



✓C)



D)

Question 16. Which movement of the traffic officer would necessarily require stopping?

السؤال 16: أي من حركات يدين شرطي المرور تعني التوقف

**Soru 17.** "Trafik kazalarında insan, araç, yol ve iklim koşulları etkili olmaktadır." Buna göre aşağıdaki trafik işaretlerinden hangisi, yoldan kaynaklanan bir tehlike olabileceğini bildirir?





✓ A)



B)



C)



D)

Question 17. "Traffic accidents affect people, vehicles, roads and climates."

Accordingly, one of the following traffic signs informs you that there may be a danger from the road

السؤال 17 إن حوادث المرور تؤثر على الناس والسيارات والطرق والبيئة

وحسب ما سبق فإن أحد شاخصات المرور التالية توضح أن هناك خطراً من الطريق

**Soru 18.** Şekildeki trafik işaretini gören sürücünün aşağıdakilerden hangisini yapması yanlıştır?



A)Yolu kontrol etmesi

✓ B)Öndeki aracı geçmesi

C)Aracının hızını azaltması

D)Geçiş hakkını yayalara vermesi

Question 18. Which of the following is wrong for the driver who sees the traffic mark on the top?

A) Road control

B) Passing the vehicle ahead

C) Reducing the speed of the vehicle

D) The right to pass

السؤال 18: أي مما يلي هو خطأ على السائق أن يقوم به عند رؤية شاخصة المرور





(أ) التحقق من الطريق

(ب) تجاوز السيارة إلى الأمام

(ت) تخفيض سرعة السيارة

(ث) حق المرور

**Soru 19.** Aşağıdaki trafik işaretlerinden hangisi, kamyonlar için öndeki aracı geçme yasağını bildirir?

- ✓ A) 
- B) 
- C) 
- D) 

Which of the following traffic signs informs the truck that the vehicle in front is not crossed?

اي من علامات المرور التالية سوف تخبر الشاحنات أنه لايجب عليها تجاوز السيارة التي أمامها

**Soru 20.** Şekildeki trafik işareti aşağıdakilerden hangisini bildirir?



- A) Dönel kavşak yaklaşımını
- ✓ B) İleri ve sola mecburi yönü
- C) Sağa ve sola mecburi yönü
- D) Ada etrafında dönüleceğini

Question 20. The top traffic sign tells you which of the following

- A) Roundabout approach
- B) **Forward and left direction**
- C) Right and left compulsory direction
- D) You will turn around the island

السؤال 20: ماذا تخبرنا شاخصة المرور التي في الشكل

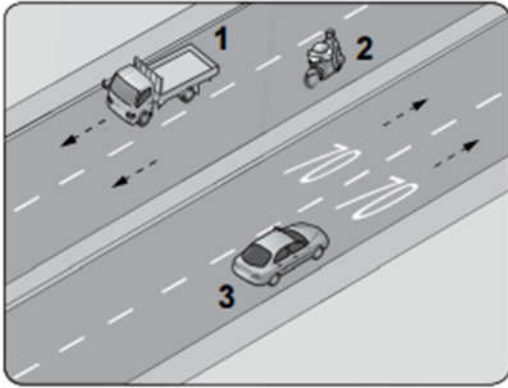
- (1) الوصول للدوار
- (2) **الاتجاه للأمام واليسار**
- (3) الاتجاه الالزامي لليمين واليسار
- (4) يمكن أن تدور حول الجزيرة

**Soru 21.** Konvoy hâlinde yavaş seyreden araçların arasındaki mesafe ne kadar olmalıdır?

- A) Araç uzunluğunun üç katı kadar
- B) Trafik ve yol durumuna göre istenildiği kadar
- C) Aracın cinsi ve teknik özelliklerinin gerektirdiği kadar
- ✓ D) Kendilerini geçmek isteyen araçların güvenle girebilecekleri kadar

Question 21. What should be the distance between the slow-moving vehicles in the convoy?	السؤال 21: ماهي المسافة التي يجب أن تكون بين السيارات التي تتحرك ببطء في الكونفوي
A) Up to three times the vehicle length	(1) حتى 3 مرات من طول السيارة
B) As required by traffic and road conditions	(2) حسب ما يتطلبه المرور وحالة الطريق
C) As far as the sex and technical specifications of the vehicle	(3) حسب نوع السيارة ومواصفاتها
D) To the extent that vehicles that want to pass themselves can enter safely	(4) بقدر ما يمكن للسيارات التي تريد أن تدخل وتمر بأمان

**Soru 22.** Şekildeki bölünmüş kara yolunda, 3 numaralı araç sürücüsünün azami (en yüksek) hızı saatte kaç kilometredir?



- A) 30
- B) 50
- ✓ C) 70
- D) 90

Question 22. How many kilometers per hour is the maximum (maximum) speed of the vehicle driver 3 in the upper divided road?	السؤال 22: ماهي السرعة الأعظمية كم/سا يجب أن تكون سرعة السائق رقم 3 في الطريق المقسوم أعلاه
A) 30	(1) 30
B) 50	(2) 50
C) 70	(3) 70
D) 90	(4) 90

- Soru 23.**I. Yaya ve okul geçitlerine yaklaşırken  
II. Görüş yetersizliği olan tepe üstü ve dönemeçlerde  
III. Kavşaklarda, demir yolu geçitlerinde ve buralara yaklaşırken

Yukarıdakilerin hangilerinde bir taşıtın önündeki taşıtı geçmesi yasaktır?

- A)Yalnız I  
B)I ve II.  
C)II ve III.  
✓D)I, II ve III.

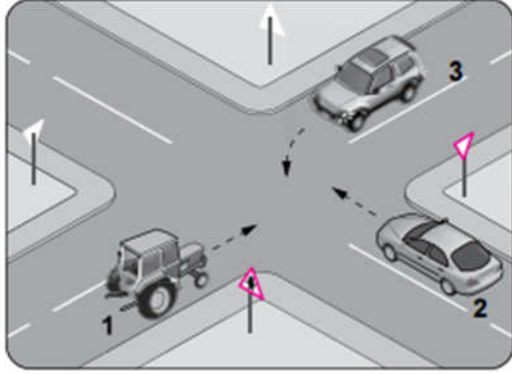
Question 23.I. While approaching pedestrian and school crossings II. Overhead and inversions with insufficient vision III. In the junctions, railroad passages and in the vicinity In which of the above are vehicles forbidden in front of a vehicle? A) I alone B) I and II. C) II and III. D) I, II and III.	السؤال 23: 1. عند الاقتراب من ممرات المشاة والمدارس 2. في الأعلى والزوايا مع رؤية غير كافية 3. في التقاطعات وممرات سكة القطار في اي من ما ذكر أعلاه ممنوع تمرير السيارة أمام الأخرى 1 فقط (1) 2 و 1 (2) 3 و 2 (3) 1 و 2 و 3 (4)
--	---

**Soru 24.**Dönel kavşaklardaki geriye dönüşlerde aşağıdakilerden hangisinin yapılması yasaktır?

- ✓A)Ada etrafında dönerken gereksiz yere şerit değiştirilmesi  
B)Dönüş sonrası hızının gerektirdiği şeride girilmesi  
C)Orta adaya bitişik şeritten dönüşe geçilmesi  
D)Sağa ve sola dönüş kurallarına uyulması

Question 24. Which of the followings are prohibited to be made during the backward crossing? A) Replacing unnecessary lanes when turning around the island B) Entering the lane where the post-turn speed is required C) Passing from the strip adjacent to the middle island D) Observation of right and left turn rules	السؤال 24 أي مما يلي ممنوع عند العودة في التقاطعات الدوارة أ) تغيير حارات المرور غير الضرورية عند الدوران حول الجزيرة ب) دخول حارة المرور حيث يتطلب السرعة ت) الانتقال من الممرات المجاورة إلى الجزيرة الوسطى ث) ملاحظة قواعد الالتفاف لليمين واليسار
---	--

**Soru 25.** Şekildeki kavşakta karşılaşan araçların geçiş hakkı sıralaması nasıl olmalıdır?



- A) 1 - 2 - 3  
✓ B) 1 - 3 - 2  
C) 2 - 3 - 1  
D) 3 - 2 - 1

Question 25. How should the right of passage of the vehicles encountering at the intersection be listed?

- A) 1 - 2 - 3  
B) 1 - 3 - 2  
C) 2 - 3 - 1  
D) 3 - 2 - 1

السؤال 25 كيف سيكون حق المرور للسيارات التي تعبر التقاطع في الشكل

- أ) 3-2-1  
ب) 2-3-1  
ت) 1-3-2  
ث) 1-2-3

**Soru 26.** Motor durdurulur.

- Araç el freni ile tespit edilir.
- Eğimli yollarda inişte geri, yokuşta birinci vitese takılır.

Yukarıda verilen esaslar hangi durumda uygulanır?

- A) Durma  
B) Geri gitme  
✓ C) Park etme  
D) U dönüşü yapma

Question 26. • The engine is stopped.

- The vehicle is detected with the handbrake.
- On the sloped roads, the first vitese is installed on the descent, on the descent.

In what situation do the above principles apply?

- A) Stop

السؤال 26:

- توقف المحرك
  - تم إيقاف السيارة بواسطة فرام اليد
  - في المنحدرات يتم تعشيق الغيار الأول وفي الطرق الصاعدة يتم تعشيق غيار الرجوع
- في أي حالة من الحالات التالية تطبق المبادئ أعلاه

- أ) التوقف  
ب) الرجوع للخلف  
ت) صف السيارة  
ث) عمل الالتفاف

B) go back	
C) Parking	
D) Do U-turn	

**Soru 27.** Yerleşim birimleri dışındaki karayollarında geceleri seyrederken, yeterince aydınlatılmamış tünellere girerken, benzeri yer ve hâllerde - - - yakılması mecburidir.

Verilen ifadede boş bırakılan yere aşağıdakilerden hangisi yazılmalıdır?

- A) sis ışıklarının
- B) park ışıklarının
- C) yakını gösteren ışıkların
- ✓ D) uzağı gösteren ışıkların

<p>Question 27. When going through tunnels that are not sufficiently illuminated while traveling at night on highways outside the area, it is obligatory to burn them in similar places and situations - - - .</p> <p>Which one of the following should be written in the given idiom?</p> <ul style="list-style-type: none"> <li>A) fog lights</li> <li>B) park lights</li> <li>C) nearby lights</li> <li>D) lights that indicate the distance</li> </ul>	<p>السؤال 27: عند المرور في الأنفاق والتي ليس فيها إنارة كافية وعند السفر في الليل على الطرقات السريعة خارج المدن فإنه يتوجب إشعالها في الأماكن والحالات.....</p> <p>أي من الحالات أن تكتب في الفراغ المنقط</p> <ul style="list-style-type: none"> <li>(أ) أنوار الضباب</li> <li>(ب) أنوار الاصطفاف</li> <li>(ت) الأضواء الواطية</li> <li>(ث) الأضواء الكاشفة للمسافات (الضوء العالي)</li> </ul>
--	--

**Soru 28.** Araçların yüklenmesine ilişkin usullere göre yolcu ve eşya taşımalarında kullanılan araçların, her yılın 1 Aralık ile 1 Nisan tarihleri arasında aşağıdakilerden hangisini kullanması zorunludur?

- ✓ A) Kış lastiği
- B) Yaz lastiği
- C) Polen filtresi
- D) Cam suyu antifrizi

<p>Question 28. According to the procedures for loading vehicles, it is necessary for the passenger and the goods used in the carriage of goods to use from 1 December to 1 April every year.</p> <ul style="list-style-type: none"> <li>A) Winter tire</li> <li>B) Summer tire</li> <li>C) Pollen filter</li> <li>D) Glass water antifreeze</li> </ul>	<p>السؤال 28: حسب الاجراءات الخاصة بالعربات فإنه من الضروري للراكب والبضائع الموجودة في كابين التحميل أن تتركب مايلي خلال فترة من 1 كانون الأول إلى 1 نيسان من كل عام</p> <ul style="list-style-type: none"> <li>(أ) الاطار الشتوي</li> <li>(ب) الإطار الصيفي</li> <li>(ت) فلتر البولان</li> <li>(ث) مانع تجمد للمياه</li> </ul>
---	--

**Soru 29.** Aşağıdakilerden hangisi otoyolda yapılabilecek davranışlardandır?

- A) Geri gitmek
- B) Geriye dönmek
- C) Zorunluluk dışında park etmek
- ✓ D) Hızına uygun şeritte gitmek

Question 29. Which of the following can be done on the highway?  A) Go back  B) Go back  C) Parking outside compulsory  D) Go to the right shoreline	السؤال 29: أي مما يلي يمكن عمله على الطرق السريعة  أ) الرجوع للخلف ب) العودة للخلف ت) الصطفاف خارج الموقف المخصص ث) استعمال حارة المرور السريعة
--	--

**Soru 30.** "Sürücü belgesi, sürücünün işlemiş olduğu kusura göre belirli bir süreliğine trafik zabitalarınca geri alınır."

Buna göre aşağıdakilerden hangisi, sürücü belgesinin geri alınmasını gerektiren kusurlardan biri değildir?

- A) Ölümlü kazalarda asli kusurlu olmak
- B) Uyuşturucu veya uyarıcı madde kullanmak
- ✓ C) Trafik işaretiyle belirlenmiş hız sınırını %10 oranında geçmek
- D) Kanunda belirtilen miktarın üzerinde alkollü olarak araç kullanmak

Question 30. "The driver's license is withdrawn for a certain period of time according to the claim that the driver is driving."  According to this, which of the following is not one of the flaws that require the driver's document to be taken back?  A) To be defective in fatal accidents  B) Using drugs or stimulants  C) Passing the speed limit determined by the traffic sign by 10%  D) Driving with alcohol above the amount specified in his blood	السؤال 30: تسحب رخصة القيادة من السائق لمدة محددة إذا قام بما يلي خلال القيادة  حسب هذا الأمر أي من الأمور التالية ليس من الأمور التي تتطلب سحب رخصة قيادة السائق  أ) أن يكون متسبباً بحادث سير ب) استعمال المخدرات ت) تجاوز السرعة المسموح بها لأكثر من 10% حسب شاخصة المرور ث) القيادة مع وجود نسبة من الكحول بدمه فوق النسب المسموحة
--	--

**Soru 31.** Kara Yolları Trafik Yönetmeliği'ne göre aşağıdaki durumlardan hangisinin oluşması hâlinde, araç için yeni Tescil Belgesi düzenlenmesi zorunludur?

- A) Hurdaya ayrılması
- ✓ B) Teknik değişiklik yaptırılması
- C) Aracın yaralanmalı kazaya karışması
- D) Aracın teknik muayenesinin zamanında yaptırılmaması

<p>Question 31. According to the Road Rules Traffic Regulation, which of the following situations occurs,</p> <p>Is it necessary to issue a Certificate of Registration?</p> <p>A) Break-out</p> <p>B) <b>Technical changes</b></p> <p>C) Interference of the vehicle with injured accident</p> <p>D) Failure of the technical inspection of the vehicle on time</p>	<p>السؤال 31: حسب قواعد الطرق وتنظيم السير، أي مما يلي يحصل أي مما يلي يتوجب تسجيله على الرخصة</p> <p>(أ) الإلغاء</p> <p>(ب) <b>التغييرات الفنية</b></p> <p>(ت) التورط بحادث مع وجود أضرار</p> <p>(ث) عدم القيام بالفحص الفني على السيارة في الوقت المناسب</p>
--	--

**Soru 32.** Aşağıdakilerden hangisi, otomobillerde bulundurulması gereken zorunlu malzeme ve gereçlerden biri değildir?

- A) Üçgen reflektör
- B) İlk yardım çantası
- C) Yangın söndürme cihazı
- ✓ D) Sarı ışıklı, dönerli uyarı lambası

<p>Question 32. Which of the following is not one of the compulsory materials and equipment that must be kept in the automobiles?</p> <p>A) Triangular reflector</p> <p>B) First aid kit</p> <p>C) Fire extinguisher</p> <p>D) <b>Yellow warning light with turn signal</b></p>	<p>السؤال 32: أي مما يلي هو ليس التجهيزات الإجبارية وجودها في السيارة</p> <p>(أ) المثلث العاكس</p> <p>(ب) حقيبة الإسعافات الأولية</p> <p>(ت) طفاية الحريق</p> <p>(ث) <b>ضوء التحذير الأصفر مع ضوء الرجوع</b></p>
---	--

**Soru 33.** Aşağıdakilerden hangisi, aracın hızı arttıkça meydana gelebilecek tehlikeli durumlardandır?

- ✓ A) Fren mesafesinin artması
- B) Güvenli sürüşün sağlanması
- C) Aracın kontrol edilebilirliğinin artması
- D) Engelle karşılaşıldığında, doğru noktada durulması

<p>Question 33. Which of the following is a dangerous situation that can come into the water as the speed of the vehicle increases?</p> <p>A) <b>Increase of brake distance</b></p>	<p>السؤال 33: أي من الحالات التالية تعتبر خطرة إذا ازدادت سرعة السيارة في حال وجود الماء</p> <p>(أ) <b>زيادة مسافة الفرملة</b></p> <p>(ب) التأكيد على القيادة الآمنة</p> <p>(ت) زيادة التحكم بالسيارة</p> <p>(ث) التوقف على اليمين عند مواجهة هذه الحالة</p>
---	--



B) Ensure safe driving C) Increase of vehicle controllability D) Stopping at the right spot when encountered	
--	--

**Soru 34.** Aşağıdakilerden hangisi, trafik denetim görevlilerinin istemesi hâlinde sürücülerin beyan etmek zorunda olduğu belgelerden biri değildir?

- A) Sürücü belgesi
- ✓ B) Araç bakım kartı
- C) Araç tescil belgesi
- D) Nüfus hüviyet cüzdanı

Question 34. Which of the following is the case where drivers are obliged to declare? is not one of the documents? A) Driver's license B) <b>Car care card</b> C) Vehicle registration certificate D) Population identity card	السؤال 34: أي من الوثائق التالية التي لا يتوجب على السائق التصريح عنها حين يتم سؤاله (أ) رخصة القيادة (ب) <b>بطاقة صيانة السيارة</b> (ت) رخصة تسجيل السيارة (ث) هوية صاحب السيارة
---	---

**Soru 35.** Egzoz emisyon ölçümünün yapılması, araçların çevreye verdiği zararlardan hangisini önlemeye yönelik bir uygulamadır?

- A) Görüntü kirliliğini
- B) Gürültü kirliliğini
- ✓ C) Hava kirliliğini
- D) Su kirliliğini

Question 35. What is the practice of measuring exhaust emission measurement to prevent damage caused by surrounding vehicles? A) Image pollution B) Noise pollution C) <b>Air pollution</b> D) Water pollution	السؤال 35 ماذا يعبر قياس الانبعاثات من العادم لمنع الضرر الحاصل للسيارات المحيطة (أ) التلوث البصري (ب) التلوث بالضجيج (ت) <b>تلوث الهواء</b> (ث) تلوث الماء
--	---

**Soru 36.** Motordan gelen sıcak suyu, bünyesinde bulunan çok ince hava temas yüzeyleri (petekler) aracılığı ile soğutan parçaya - - - - denir.

Verilen cümlede boş bırakılan yere, aşağıdakilerden hangisinin yazılması uygundur?

- A) amortisör
- ✓ B) radyatör
- C) alternatör
- D) distribütör





<p>Question 36. The hot water coming from the motor is cooled by very fine air contact surfaces (honeycombs)</p> <p>It is called the part - - - - .</p> <p>Which of the following is suitable for writing where the given clan is left empty?</p> <ul style="list-style-type: none"><li>A) shock absorber</li><li>B) radiator</li><li>C) alternator</li><li>D) distributors</li></ul>	<p>السؤال 36: يتم تبريد الماء الساخن القادم من المحرك عبر سطح ناعم جداً يسمى</p> <p>هذا الجزء يسمى</p> <p>أي مما يلي مناسب للكتابة فيما سبق</p> <ul style="list-style-type: none"><li>(1) جهاز امتصاص الصدمة</li><li>(2) الراديتور (المبرد)</li><li>(3) الألترنيتور</li><li>(4) الموزعات</li></ul>
---	--

**Soru 37.** Taşıtlardaki süspansiyon sisteminin görevi aşağıdakilerden hangisidir?

- A) Yakıt tüketimini azaltmak
- B) Aracın dönüşlerini sağlamak
- C) Akünün şarj olmasını sağlamak
- ✓ D) Titreşimleri, salınımları ve ani şokları sönmölemek

<p>Question 37. Which of the following is the duty of the suspension system in the market?</p> <ul style="list-style-type: none"><li>A) Reducing fuel consumption</li><li>B) Providing the vehicle's turn</li><li>C) Ensure that the battery is charged</li><li>D) Damp vibrations, oscillations and sudden shocks</li></ul>	<p>السؤال 37: أي مما يلي وظيفة نظام التأخير في السيارة</p> <ul style="list-style-type: none"><li>(1) تقليل معدل استهلاك الوقود</li><li>(2) التأكيد على عودة السيارة</li><li>(3) التأكيد بأن البطارية قد شحنت</li><li>(4) تقليل الاهتزازات والحركة والصدمات المفاجئة</li></ul>
--	---

**Soru 38.** Aracın gösterge panelinde, aşağıdaki ikaz ışıklarından hangisinin yanıyor olması, arka cam rezistansının çalışmakta olduğunu bildirir?

- A) 
- B) 
- ✓ C) 
- D) 

Question 38. In the car's instrument panel, which one of the following warning lights is illuminated indicates that the rear windshield resistance is working?

السؤال 38: في لوحة التحكم بالسيارة أي من الأضواء التحذيرية التالية التي تضيء في حال أن تدفئة الزجاج الخلفي تعمل

- Soru 39.**I. Lastik hava basınçlarının ve yakıt seviyesinin kontrol edilmesi  
 II. Aydınlatma ve sinyal sisteminin düzgün çalışıp çalışmadığının kontrol edilmesi  
 III. Ön koltuklar, kafalıkları ve aynanın beden ölçülerine uygun olarak ayarlanması

Verilenlerden hangileri, aracı kullanmaya başlamadan önce yapılması gereken hazırlıklardandır?

- A)Yalnız I  
 B)Yalnız II  
 C)Yalnız III  
 ✓D)I, II ve III.

Question 39.I. Check tire inflation pressures and fuel level

II. Check lighting and signal system for proper operation

III. Adjusting front seats, head restraints and mirror to fit body measurements

What are the preparations to be made before starting to use the tool?

- A) I alone  
 B) Only II  
 C) Only III  
 D) I, II and III.

السؤال 39

1. التأكد من ضغط الهواء ومستوى الوقود
2. التحقق من الإضاءة ونظام الإشارات من أجل التشغيل المناسب
3. ضبط المقاعد الأمامية ومساند الظهر والمرار لتناسب قياسات الجسم

أي من الإجراءات التي تجرى قبل البدء باستخدام السيارة

- (أ) 1 فقط  
 (ب) 2 فقط  
 (ت) 3 فقط  
 (ث) 3، 2، 1

**Soru 40.**Aracın periyodik bakımı yapılırken aşağıdakilerden hangisinin değiştirilmemesi araç motorunun çalışmasını olumsuz etkiler?

- A)Fren balatasının
- B)Polen filtresinin
- ✓C)Yakıt filtresinin
- D)Geri vites müşirinin

Question 40. When periodic maintenance of the car is carried out, which one of the following is not changed, adverse effects?	السؤال 40: عندما يتم إجراء الصيانة الدورية للسيارة أي مما يلي لا يتم تبديله الآثار السلبية أ) الفرامل ب) فلتر الهواء ت) فلتر البنزين ث) غيار العوذة للخلف (الأناريه)
A) Brake pin B) Pollen filtrate C) <b>The fuel filter</b> D) Reverse gear selector	

**Soru 41.**Çalışan parçalarda sürtünmeye bağlı olarak meydana gelen aşınmayı azaltan madde hangisidir?

- A)Antifriz
- ✓B)Motor yağı
- C)Hidrolik yağı
- D)Akü elektroliti

Question 41. Which is the abrasion-reducing substance that rinses depending on the friction in working parts?	السؤال 41: ماهي المادة التي تقلل التآكل نتيجة احتكاك القطع التي تعمل أ) مضاد التجمد ب) <b>زيت المحرك</b> ت) زيت الهيدروليك ث) الكترولوات البطارية
A) Antifreeze B) <b>Engine oil</b> C) Hydraulic oil D) Battery electrolyte	

**Soru 42.**Araç gösterge panelinde "ABS" uyarı ışığının yanması, aracın hangi sisteminde arıza olduğunu belirtir?

- ✓A)Fren
- B)Yakıt
- C)Yağlama
- D)Soğutma

<p>Question 42. When the "ABS" warning light is lit in the car display panel, which system in the car is faulty?</p> <p><b>A) Brake</b></p> <p>B) Fuel</p> <p>C) Lubrication</p> <p>D) Cooling</p>	<p>السؤال 42: عندما تضيء لمبة إشارة ال ABS في لوحة التحكم بالسيارة أي جزء من السيارة يكون معطلاً</p> <p>(1) الفرامل</p> <p>(2) الوقود</p> <p>(3) الزيت</p> <p>(4) التبريد</p>
--	---

**Soru 43.** Seyir hâlindeyken motordan "anormal sesler" gelmesi durumunda aşağıdakilerden hangisi yapılır?

- A) Motorun devri artırılır.  
B) Açık camlar varsa kapatılır.  
C) Önemsiz yola devam edilir.  
 D) Trafik kurallarına uyarak durulur ve kontak kapatılır.

<p>Question 43 Which of the following is the case when the motordan "abnormal sounds" come into play?</p> <p>A) Increase the engine turnover.</p> <p>B) If there are open windows, it is closed.</p> <p>C) The unimportant way continues.</p> <p><b>D) Stop and contact is closed according to traffic rules</b></p>	<p>السؤال 43: أي مما يلي يكون مسؤولاً عن الأصوات غير الاعتيادية في المحرك فماذا يجري</p> <p>(أ) تزداد سرعة المحرك</p> <p>(ب) إذا تم فتح النوافذ المغلقة</p> <p>(ت) ليس من الضروري إكمال الطريق</p> <p>(ث) التقيد بقواعد المرور وإغلاق الكونتاك</p>
--	--

**Soru 44.** Araçta yakıt tasarrufu sağlamak için aşağıdakilerden hangisi yapılır?

- A) Eskiye buji kabloları değiştirilir.  
B) Motor yüksek devirde kullanılır.  
C) Trafiğin yoğun olduğu yollar seçilir.  
D) Araç yokuş aşağı inerken vites boşa alınıp kontak kapatılır.

<p>Question 44. Which one of the following is done to save fuel in the car?</p> <p><b>A) The old spark plug cables are changed.</b></p> <p>B) The motor is used at high speed.</p> <p>C) Roads with heavy traffic are selected.</p> <p>D) When the vehicle is downhill, the gear is cleared and the ignition is switched off.</p>	<p>السؤال 44: أي مما يلي يتم عمله لتوفير الوقود في السيارة</p> <p>(1) تغيير كابلات البواجي القديمة</p> <p>(2) استخدام المحرك في سرعة عالية</p> <p>(3) استخدام الطرق المزدحمة</p> <p>(4) عندما تنزل السيارة من منحدر يتم وضع التفريغ علناغير وإغلاق الكونتاك</p>
---	---

**Soru 45.**I. Trafikteki bütün kuralların nedenini öğrenir.

II. Araç kullanırken yapacağı bir kural ihlalinin sonucunda sadece maddi ceza olduğunu düşünür.

III. Trafik içinde yapacağı bir kural ihlalinde, kendisinin ya da sevdiklerinin canını tehlikeye attığının farkında olur.

Yukarıdakilerden hangileri trafik adabına sahip olan bir sürücü için söylenebilir?

- A) I ve II
- ✓ B) I ve III
- C) II ve III
- D) I, II ve III

<p>Question 45.I. He learns all the rules in the traffic.</p> <p>II. He thinks that there is only material punishment as a result of a violation of a rule that he will use while driving.</p> <p>III. In the violation of a rule that he will take in traffic, he realizes that he or his loved ones have put their lives at risk.</p> <p>Which of the above can be said for a driver who owns a traffic adab?</p> <p>A) I and II</p> <p><b>B) I and III</b></p> <p>C) II and III</p> <p>D) I, II and III</p>	<p>السؤال 45</p> <p>1- هو يعرف كل قواعد السير</p> <p>2- هو يظن أن هناك عقوبة لخرق قواعد السير عندما يكون يسوق السيارة</p> <p>3- في حال وجود مخالفة أثناء القيادة يلاحظ أن من يجنبهم قد تعرضوا للخطر</p> <p>أي مما يلي يمكن أن يقال عن السائق الذي تعلم أدبيات المرور</p> <p>أ) 1 و 2</p> <p><b>ب) 1 و 3</b></p> <p>ت) 2 و 3</p> <p>ث) 1 و 2 و 3</p>
--	---

**Soru 46.**Aracı arıza yaptığı için yolda kalmış ve trafiğin aksamasına sebep olmuş sürücünün sorununa, yoldan geçen diğer bir sürücünün durup çözüm bulması hâli, trafikte hangi temel değere sahip olduğuna örnektir?

- ✓ A)Yardımlaşmaya
- B)Öfke duygusuna
- C)Bencil davranmaya
- D)Aşırı tepki göstermeye

<p>Question 46. For example, what kind of basic value do you have for traffic, when you have to stop and find another driver who is on the road for the problem of the driver who has been on the road because the driver made a breakdown and caused traffic problems?</p> <p><b>A) Assistance to</b></p> <p>B) Feeling of anger</p>	<p>السؤال 46: على سبيل المثال ماهو نوع الالقيمة الأساسية التي نعرفها في المرور والتي تتوجب عليك أن تتوقف وتجد سائقاً آخر على الطريق واقعاً بمشكلة وواقعاً بمشكلة وقد تسبب بمشكلة مرورية</p> <p>أ) تقديم المساعدة</p> <p>ب) الشعور بالغضب</p> <p>ت) الشعور بالأنانية</p> <p>ث) لاتبالغ في رد الفعل</p>
---	---

C) Being selfish	
D) Do not overreact	

**Soru 47.** Kırmızı ışıkta beklerken ışık sarıya döner dönmez önündeki araca korna çalan sürücünün, ışığın yeşile dönmesi için 1 saniye bile bekleyememesi durumu, bu sürücünün trafikte hangi temel değere sahip olmadığını gösterir?

- A) Öfke
- B) İnatlaşma
- ✓ C) Sabır
- D) Aşırı tepki

<p>Question 47. When the light turns yellow while waiting in the red light, the driver who plays the horn in front of him does not wait for 1 second for the light to turn green, does not it have any basic value in the traffic?</p> <p>A) Anger</p> <p>B) obstinacy continued</p> <p><b>C) Patience</b></p> <p>D) Overreaction</p>	<p>السؤال 47: عندما ينقلب الضوء للأصفر عندما تكون في وضعية الانتظار على الأحمر والسائق الذي يقوم بالتزمير لمن أمامه ولا ينتظر لثانية حتى ينقلب الضوء للأخضر لا يمتلك أية قيم مرورية</p> <p>(أ) الغضب</p> <p>(ب) العناد</p> <p><b>(ت) الصبر</b></p> <p>(ث) ردة الفعل</p>
---	---

**Soru 48.** Bir olay ya da durumda, karşımızdaki kişi hakkında herhangi bir yargıda bulunmadan önce kendimizi onun yerine koyarak olayı/ durumu onun gibi yaşamamız anlamına gelmektedir.

Yukarıdaki açıklama, trafik adabı açısından da çok ciddi bir öneme sahip olan hangi davranış özelliğine aittir?

- A) Öfke
- ✓ B) Empati
- C) Bastırma
- D) Engellenme

<p>Question 48. In the event or situation, before we make any judgments about the person we are against, we put ourselves in his / her place, and the situation / situation means our life like him.</p> <p>What is the behavioral attribute of the above statement, which also has a very serious precaution in terms of traffic administration?</p> <p>A) Anger</p>	<p>السؤال 48 في أي حال وقبل أن نعطي أي حكم علينا أشخاص أمامنا دعونا نضع أنفسنا في مكانهم وحالتنا هي حياتنا مكانهم</p> <p>ماهو السلوك الذي يعزى إلى التعبير المذكور أعلاه والذي أيضاً لديه إجراءات احتياطية مهمة من خلال إدارة مرور</p> <p>(أ) الغضب</p> <p><b>(ب) التعاطف</b></p> <p>(ت) القمع</p> <p>(ث) الحجب</p>
---	---

B) <b>empathy</b>	
C) Soaking	
D) Blocking	

**Soru 49.**Trafikte yaşanan öfke duygusu aşağıdakilerden hangisine yol açabilmektedir?

- A)Kural ihlallerinin azalmasına
- B)Direksiyon hâkimiyetinin artmasına
- C)Kazaya karışma olasılığının azalmasına
- ✓D)Sürücülük yeteneğinin olumsuz yönde etkilenmesine

Question 49. Which of the following can lead to anger sentiment in traffic?	السؤال 49: أي مما يلي يمكن أن يؤدي للشعور الغضب في المرور
A) Reduction of violations of the Code	(أ) انتهاكات للقواعد والقوانين
B) Increasing steering power	(ب) زيادة حاكمية الدركسيون
C) To reduce the possibility of interference with the accident	(ت) تقليل إمكانية التعرض للحادث
D) <b>Driving ability to be affected negatively</b>	(ث) <b>قدرة القيادة تتأثر سلباً</b>

**Soru 50.**Aşağıdakilerden hangisi trafikte bireye yapılan hak ihlallerindendir?

- A)Aşırı hız yapmaktan kaçınılması
- B)Geçiş önceliğine sahip araçlara yol verilmesi
- ✓C)Engelli kişiler için ayrılmış yerlere park edilmesi
- D)Trafikte sürücülerin tek başına olmadığı düşünülmesi

Question 50. Which of the following is the violation of the individual rights of traffic?	السؤال 50 أي مما يلي هو من انتهاكات حقوق الأفراد في المرور
A) Avoid over-speeding	(أ) تجنب السرعة العالية
B) Passing vehicles with transit priority	(ب) تجاوز سيارة ضمن حقوق التجاوز
C) <b>Parking for places reserved for persons with disabilities</b>	(ت) <b>ركن وصف السيارة في الأماكن المخصصة لذوي الاحتياجات الخاصة</b>
D) Considering that drivers are not alone in traffic	(ث) اعتبار أن السائقين ليسوا وحدهم في حركة المرور